

Instituto de Previdência do Estado do Rio Grande do Sul - IPERGS

CADERNO DE EXERCÍCIOS

Nível Médio



LÍNGUA PORTUGUESA

Instrução: As questões de números 01 a 10 referem-se ao texto abaixo. Os destaques ao longo do texto estão citados nas questões.

Segurança da informação nas empresas: diferenças entre educar, treinar e conscientizar

01 Quando se fala em segurança da informação nas empresas, ter pessoas competentes e prontas
02 para encarar ___ ameaças do dia ___ dia com esperteza e responsabilidade é a sua primeira linha
03 de defesa. O elo mais fraco de um plano de segurança é sempre o fator humano, ou seja, o
04 usuário, pois não ___ nenhuma tecnologia, nenhum tipo de software que possa impedir o deslize
05 de um funcionário desatento. Por isso, uma forte segurança da informação nas empresas depende
06 da capacitação dos colaboradores para executar suas funções de maneira, de fato, segura.

07 Nem todos os colaboradores, contudo, precisam ter o mesmo nível de conhecimento de
08 segurança, o que torna fundamental que se entenda a diferença entre educação, treinamento e
09 conscientização. Para isso, vamos promover uma analogia. A maior parte das pessoas que você
10 conhece provavelmente gosta de ir à praia. De fato, é uma atividade muito comum para muitas
11 pessoas e que exige diversos cuidados: passar filtro solar, manter-se hidratado, e, principalmente,
12 ter atenção ao mar. Quem nunca foi à praia ou não convive com esse ambiente de forma habitual
13 pode não entender como o mar é – além de muito atrativo – perigoso. Talvez essa pessoa também
14 não saiba quais são os cuidados a serem tomados, de modo que pode acabar correndo riscos
15 desnecessários. Já alguém que esteja mais habituado e conheça ao menos um pouco sobre os
16 perigos de um mar revolto sabe o que significa a bandeira vermelha, e, idealmente, sabe
17 identificar quando é seguro se divertir e se refrescar nas ondas e quando é melhor se manter na
18 segurança da areia. Essa pessoa que tem uma noção sobre como se relacionar com o mar é uma
19 pessoa que tem consciência sobre os perigos que **ele** pode apresentar e como identificá-los.
20 Conscientização, portanto, é um estado constante de estar ciente das ameaças que existem, como
21 identificá-las e como evitar ser uma vítima.

22 Do ponto de vista da segurança da informação nas empresas, um colaborador plenamente
23 conscientizado conhece as boas práticas para não se encontrar no centro de um incidente de
24 vazamento de informações. **Ele** sabe como se prevenir contra ameaças de hackers, bem como
25 identificar o perigo em potencial, mesmo que não entenda todos os detalhes por trás de cada
26 prática de cunho deletério a sua atividade profissional.

27 Quando falamos de segurança da informação, alguém não conscientizado pode clicar em links
28 suspeitos, abrir anexos indesejados, tirar fotos reveladoras de algo confidencial no ambiente de
29 trabalho e até submeter credenciais em formulários fraudulentos. Cada uma dessas ações gera
30 incidentes de segurança da informação. Para lidar com determinadas ameaças e incidentes, uma
31 pessoa precisa estar treinada, seja para responder rapidamente ou até mitigar danos.
32 Treinamento, então, consiste no desenvolvimento de competências necessárias à execução de
33 uma atividade ou função. Em se tratando de segurança da informação nas empresas, alguns
34 profissionais precisam de conhecimento e competências um nível acima do alcançado com a
35 conscientização. Da mesma forma que uma pessoa pode ter sido treinada por um curso de
36 primeiros socorros ou salvamento para executar alguns passos e conter ou amenizar um incidente,
37 alguém treinado para segurança da informação saberá operar controles, técnicas, e atuar com
38 gerenciamento de risco e política de segurança.

39 A educação, por outro lado, está associada a um corpo de conhecimento formado por um
40 conjunto de competências, capacidades e entendimento teórico adequados a diversas funções.
41 Idealmente, a educação aborda conceitos, princípios e questões de maneira multidisciplinar, sob
42 vários pontos de vista e abordagens, envolvendo aspectos não só tecnológicos do assunto
43 estudado, como também sociais. As pessoas que são educadas são os profissionais e especialistas.
44 Na analogia que vínhamos tecendo, alguém que tem uma educação para lidar com incidentes na
45 praia e no mar pode ser um profissional de salvamento, como um bombeiro ou salva-vidas, ou até
46 paramédicos, em oposição a uma pessoa apenas treinada em salvamento ou primeiros socorros.

Texto adaptado especialmente para esta prova. Disponível em:
<https://www.proof.com.br/blog/seguranca-da-informacao-nas-empresas/>.

QUESTÃO 01 – A respeito da grafia de algumas palavras localizadas no texto, levando-se em conta o seu significado no contexto da frase em que aparecem, considere as seguintes afirmações:

- I. “deslize” (l. 04) está escrita corretamente.
- II. “desnecessários” (l. 15) está escrita corretamente.
- III. “prevenir” (l. 24) está escrita incorretamente, pois o correto é “previnir”.
- IV. “trás” (l. 25) está escrita incorretamente, pois o correto é “traz”.

Quais estão corretas?

- A) Apenas I e II.
- B) Apenas I e III.
- C) Apenas II e III.
- D) Apenas II e IV.
- E) Apenas III e IV.

QUESTÃO 02 – Assinale a alternativa que apresenta, ao lado da palavra retirada do texto, um termo que semanticamente a substitua de forma correta.

- A) “esperteza” (l. 02) – aspereza.
- B) “desatento” (l. 05) – desalento.
- C) “analogia” (l. 09) – aleivosia.
- D) “atrativo” (l. 13) – atraente.
- E) “deletério” (l. 26) – apagável.

QUESTÃO 03 – As linhas tracejadas situadas no primeiro parágrafo do texto são, respectiva e corretamente, preenchidas com:

- A) as – a – a
- B) às – à – a
- C) as – à – há
- D) às – a – à
- E) as – a – há

QUESTÃO 04 – Assinale a alternativa que mostra uma palavra extraída do texto que contém apenas um encontro consonantal.

- A) empresas (l. 01).
- B) detalhes (l. 25).
- C) confidencial (l. 28).
- D) pessoa (l. 31).
- E) socorros (l. 46).

QUESTÃO 05 – Com base exclusivamente no que é expresso pelo texto, é correto afirmar que seu autor:

- A) Esclarece que os colaboradores de uma empresa, sem exceção, necessitam ter o mesmo nível de conhecimento sobre segurança da informação.
- B) Conceitua que conscientização é um estado intermitente de se ter ciência das ameaças de ataques virtuais, sendo indispensável saber identificá-las, bem como evitar ser uma vítima delas.
- C) Sustenta que um colaborador neófito em relação à segurança da informação nas empresas conhece as boas práticas para não se encontrar no centro de um incidente de vazamento de informações.
- D) Saliencia que a pessoa que recebe treinamento para segurança da informação aprende a lidar profissionalmente com gerenciamento de riscos e a atuar com política de segurança da informação.
- E) Destaca que a educação aborda conceitos, princípios e questões de maneira unilateral, envolvendo aspectos tecnológicos do assunto estudado.

QUESTÃO 06 – Assinale a alternativa que contém um adjetivo que, por sua formação, é classificado como primitivo.

- A) esperteza (l. 02).
 - B) forte (l. 05).
 - C) perigoso (l. 13).
 - D) habituado (l. 15).
 - E) fraudulentos (l. 29).
-

QUESTÃO 07 – No excerto “Talvez essa pessoa também não saiba quais são os cuidados a serem tomados, de modo que pode acabar correndo riscos”, retirado do texto, se a palavra “pessoa” fosse flexionada no plural, quantas palavras ao todo precisariam ter a grafia modificada para garantir a correta concordância verbo-nominal?

- A) Duas.
 - B) Três.
 - C) Quatro.
 - D) Cinco.
 - E) Seis.
-

QUESTÃO 08 – O termo “portanto” (l. 20), para continuar exprimindo a ideia de conclusão, pode ser substituído pelas seguintes conjunções e locuções conjuntivas:

- I. Porquanto.
- II. Assim.
- III. No entanto.
- IV. Por conseguinte.

Quais estão corretas?

- A) Apenas I e II.
 - B) Apenas I e III.
 - C) Apenas II e III.
 - D) Apenas II e IV.
 - E) Apenas III e IV.
-

QUESTÃO 09 – No fragmento “Quando falamos de segurança da informação, alguém não conscientizado pode clicar em links suspeitos, abrir anexos indesejados, tirar fotos reveladoras de algo confidencial no ambiente de trabalho e até submeter credenciais em formulários fraudulentos” retirado do texto, as duas últimas vírgulas foram empregadas para separar:

- A) Elementos paralelos de um provérbio.
 - B) Conjunções pospositivas.
 - C) Orações justapostas assindéticas.
 - D) Adjuntos adverbiais.
 - E) Expressões retificativas.
-

QUESTÃO 10 – Em “O elo mais fraco de um plano de segurança é sempre o fator humano”, retirado do texto, a forma verbal “é”, quanto a sua predicação, assinala a presença, na referida frase, de um verbo:

- A) Intransitivo.
 - B) Bitransitivo.
 - C) Transitivo direto.
 - D) Transitivo indireto.
 - E) De ligação.
-

LÍNGUA PORTUGUESA

A vida em um dia

01 Um inusitado projeto pediu para que pessoas do mundo todo enviassem vídeos em que
02 contassem sua vida em um dia. O retorno a esse apelo veio na forma de nada menos que 4500
03 horas de imagens registradas por pessoas de mais de 190 nacionalidades. Trata-se de *A vida em*
04 *um dia*, documentário produzido a partir da parceria entre a plataforma de compartilhamento de
05 vídeos YouTube, o diretor Kevin Macdonald e os produtores Ridley e Tony Scott.

06 Pensado a partir de uma ideia simples (conte-nos um dia de sua vida e faça parte de nosso
07 filme), *A vida em um dia* é também um filme simples, porém capaz de levantar algumas reflexões.
08 Editado em ordem cronológica, o documentário mostra pessoas acordando, escovando os dentes,
09 tomando café da manhã, saindo de casa para o trabalho, fazendo o almoço etc., conseguindo
10 captar o que de mais forte há na vida das pessoas: o cotidiano. Por ser tão simplório, à primeira
11 vista o filme pode parecer apenas um compilado de vídeos do YouTube, intercalados com trailers
12 de bons dramas que jamais chegaremos a ver. São cenas simples do cotidiano intercaladas com
13 passagens que se sobressaem (como a do jovem que anuncia sua homossexualidade pelo telefone
14 para a sua avó, ou a cena que se passa em um lar desorganizado e mostra o hábito de um pai
15 viúvo e seu filho pequeno saudarem a imagem da falecida esposa/mãe às manhãs), e personagens
16 que são retomados em mais de um momento, como Okhwan Yoon, coreano que já passou por
17 mais de 190 países em sua grande viagem pelo mundo a bordo de sua bicicleta.

18 Essa aparência à primeira vista vai caindo por terra à medida que montagem, edição e trilha
19 sonora se juntam para transmitir o ritmo da evolução natural do dia, mais lento durante ____
20 primeiras horas do dia ou após o almoço, por exemplo. Além disso, durante o desenvolvimento
21 do filme, algumas curtas e interessantes antologias, como os trechos dedicados ____ nascimentos
22 ou ____ respostas para as perguntas propostas pelos produtores (o que você ama? Do que tem
23 medo? O que tem nos bolsos?), são mostradas e impedem que o espectador encare o filme como
24 um mero compilado aleatório de vídeos.

25 A montagem bem feita de Joe Walker merece aplausos em determinados instantes, como a
26 parte em que brincadeiras de soldados norte americanos em atividade são seguidas por registros
27 de um homem afegão empenhado em desmistificar a fama negativa de **seu** país; imagens essas
28 que, por sua vez, são alternadas com a preparação de uma mulher para uma video-conferência
29 com o marido, um soldado em atividade e distante devido à guerra. Essa bem-sucedida montagem
30 passa uma das mensagens do filme: mesmo em diferentes culturas e costumes, somos humanos
31 e podemos partilhar de um mesmo contexto, somos todos pessoas diferentes, mas unidos pela
32 humanidade. Em **sua** primeira aparição, o ciclista coreano contribui também para a transmissão
33 dessa mensagem ao se apresentar dizendo que nasceu na Coreia, não importa se na do Sul ou na
34 do Norte, e que está viajando o mundo descobrindo novas culturas e engrandecendo a si mesmo
35 enquanto pessoa.

36 O filme recebeu diversas críticas, entre elas a construção que pouco explora a heterogeneidade
37 de um material tão vasto, assim como a falta de uma diversidade de enfoques que poderiam
38 mostrar o efeito das grandes questões da vida na visão de diferentes culturas. Para muitos, essas
39 críticas se somam ao acabamento impecável e polido, que descaracteriza um pouco o amadorismo
40 da proposta, resultando em um filme profissional com estética amadorística forjada, que mais se
41 assemelha a um grande comercial da raça humana. A partir dessas críticas e retomando as
42 reflexões iniciais levantadas, fica claro que o diretor, em vez de tentar apresentar e questionar as
43 diferenças que dividem a humanidade, escolheu o caminho mais palatável: fazer uma obra que
44 exalta os sentimentos mais belos, harmonizando pessoas, raças, etnias e credos distintos, para
45 mostrar que, antes de qualquer coisa, somos humanos em busca de uma vida digna e nada mais
46 forte que o nosso dia a dia para tentar reproduzir o que somos.

Texto adaptado especialmente para esta prova. Disponível em:
<http://www.comciencia.br/comciencia/?section=8&tipo=resenha&edicao=129>

QUESTÃO 11 – A respeito da grafia de algumas palavras localizadas no texto, levando-se em conta o seu significado no contexto das frases em que aparecem, considere as seguintes afirmações:

- I. "homossexualidade" (l. 13) está escrita corretamente.
- II. "expectador" (l. 23) está escrita corretamente.
- III. "norte americanos" (l. 26) está escrita incorretamente, pois o correto é "norte-americanos".
- IV. "video-conferência" (l. 28) está escrita incorretamente, pois o correto é "videoconferência".

Quais estão corretas?

- A) Apenas I e II.
- B) Apenas I e III.
- C) Apenas II e III.
- D) Apenas II e IV.
- E) Apenas III e IV.

QUESTÃO 12 – Assinale a alternativa que apresenta, ao lado da palavra retirada do texto, um termo que semanticamente a substitua de forma correta.

- A) "inusitado" (l. 01) – insólito.
- B) "simplório" (l. 10) – genioso.
- C) "antologias" (l. 21) – resenhas.
- D) "desmistificar" (l. 27) – restabelecer.
- E) "forjada" (l. 40) – fortuita.

QUESTÃO 13 – As lacunas situadas no terceiro parágrafo do texto são, respectiva e corretamente, preenchidas com:

- A) as – a – as
- B) às – a – às
- C) as – à – às
- D) às – à – as
- E) as – a – às

QUESTÃO 14 – Qual das seguintes palavras extraídas do texto contém um dígrafo que representa vogal nasal?

- A) "imagem" (l. 15).
- B) "ritmo" (l. 19).
- C) "distante" (l. 29).
- D) "partilhar" (l. 31).
- E) "filme" (l. 36).

QUESTÃO 15 – Com base exclusivamente no que é exposto pelo texto, é correto afirmar que seu autor:

- A) Considera complexo o enredo de *A vida em um dia*.
- B) Julga ser o cotidiano o aspecto mais significativo na vida das pessoas.
- C) Encara o filme como um compilado de vídeos destituído de lógica.
- D) Entende ser a mensagem do filme defensora da dissidência da humanidade.
- E) Lembra os elogios recebidos pelo filme por explorar vastamente a heterogeneidade de seu material.

QUESTÃO 16 – As formas verbais "enviassem" e "contassem", situadas no primeiro período do texto, estão devidamente conjugadas na terceira pessoa do plural do:

- A) Presente do modo indicativo.
- B) Pretérito perfeito do modo indicativo.
- C) Pretérito imperfeito do modo indicativo.
- D) Presente do modo subjuntivo.
- E) Pretérito imperfeito do modo subjuntivo.

QUESTÃO 17 – No excerto “A montagem bem feita de Joe Walker merece aplausos em determinados instantes” (l. 25), se a palavra “montagem” fosse flexionada no plural, quantas palavras ao todo deveriam ter a grafia modificada para garantir a correta concordância verbo-nominal?

- A) Duas.
- B) Três.
- C) Quatro.
- D) Cinco.
- E) Seis.

QUESTÃO 18 – Considerando o contexto em que aparece na construção textual em análise, a locução conjuntiva “à medida que” (l. 18) exprime ideia de:

- A) Comparação.
- B) Oposição.
- C) Alternância.
- D) Proporcionalidade.
- E) Concessão.

QUESTÃO 19 – Os parênteses em destaque no terceiro parágrafo foram utilizados com a intenção de:

- A) Indicar a mudança de interlocutor.
- B) Incluir uma explicação dada.
- C) Fazer sobressair neologismos.
- D) Marcar a hesitação do autor.
- E) Exigir que o leitor supra com a sua imaginação uma ideia não concluída pelo autor.

QUESTÃO 20 – No fragmento “Essa bem-sucedida montagem passa uma das mensagens do filme” (l. 29-30), quanto a sua predicção, “passar” é um verbo:

- A) De ligação.
- B) Transitivo direto.
- C) Transitivo indireto.
- D) Bitransitivo.
- E) Intransitivo.

QUESTÃO 21 – O termo “apelo” (l. 02) é decorrente do processo de formação de palavras denominado derivação:

- A) Prefixal.
- B) Sufixal.
- C) Parassintética.
- D) Regressiva.
- E) Imprópria.

QUESTÃO 22 – Os pronomes “seu” e “sua”, em destaque no quarto parágrafo do texto, estão fazendo referência, respectivamente, a quais elementos?

- A) Joe Walker (l. 25) – montagem (l. 29).
- B) homem afegão (l. 27) – guerra (l. 29).
- C) Joe Walker (l. 25) – ciclista coreano (l. 32).
- D) homem afegão (l. 27) – ciclista coreano (l. 32).
- E) soldados norte americanos em atividade (l. 26) – filme (l. 30).

QUESTÃO 23 – Na frase adaptada do texto “O diretor escolheu o caminho mais palatável”, assinale a alternativa que mostra como ela seria convertida corretamente para a voz passiva analítica.

- A) O caminho mais palatável foi escolhido pelo diretor.
 - B) Escolheu-se o caminho mais palatável ao diretor.
 - C) O caminho mais palatável escolheu o diretor.
 - D) Escolheu-se através do diretor o caminho mais palatável.
 - E) O caminho mais palatável escolheu-se através do diretor.
-

QUESTÃO 24 – Tomando por base o que o texto explicita, observe as seguintes afirmações e a relação proposta entre elas:

- I. O documentário “A vida em um dia” é fruto de um profissionalismo associado a uma estética amadora, assemelhando-se a uma ampla propaganda da raça humana.

PORQUE

- II. Okhwan Yoon cruzou mais de 190 países com sua lancha para desbravar o mundo.

É correto afirmar que:

- A) Ambas as afirmações são falsas.
 - B) A primeira afirmação é falsa e a segunda afirmação é verdadeira.
 - C) A primeira afirmação é verdadeira e a segunda afirmação é falsa.
 - D) Ambas as afirmações são verdadeiras, mas a segunda não é uma justificativa da primeira.
 - E) Ambas as afirmações são verdadeiras, e a segunda é uma justificativa da primeira.
-

QUESTÃO 25 – Assinale a alternativa que mostra um trecho extraído do texto que contém uma locução verbal.

- A) Um inusitado projeto pediu para que pessoas do mundo todo enviassem vídeos em que contassem sua vida em um dia (l. 01-02).
- B) O retorno a esse apelo veio na forma de nada menos que 4.500 horas de imagens registradas por pessoas de mais de 190 nacionalidades (l. 02-03).
- C) *A vida em um dia* é também um filme simples, porém capaz de levantar algumas reflexões (l. 07).
- D) À primeira vista o filme pode parecer apenas um compilado de vídeos do YouTube (l. 10-11).
- E) A montagem bem feita de Joe Walker merece aplausos em determinados instantes (l. 25).

LÍNGUA PORTUGUESA

Só 4 amigos do Facebook realmente importam, diz estudo*Por Casey Williams*

01 Sua quantidade de amigos no Facebook é uma triste mentira.
02 Ter muitos amigos on-line não significa que você terá mais pessoas para lhe ajudar quando
03 estiver deprimido. Uma pesquisa publicada em janeiro pela revista *The Royal Society Open*
04 *Science* mostra que temos tendência de manter um grupo pequeno de amigos – seja na internet
05 ou na vida real.

06 Robin Dunbar, autor do estudo e psicólogo de Oxford, analisou uma pesquisa com 3.375
07 usuários do Facebook no Reino Unido. Descobriu que, apesar de contar com uma média de 150
08 amigos, essas pessoas procuravam apenas cerca de quatro deles durante uma "crise emocional".
09 Os usuários também buscavam apoio de cerca de 14 amigos devido ___ "empatia" entre eles.

10 As pessoas tendem a ter um número semelhante de amigos próximos na vida real, de
11 acordo com uma pesquisa anterior de Dunbar sobre redes sociais. Por isso, apesar de sites de
12 mídia social como o Facebook expandirem nossas redes on-line, eles na verdade não engrossam
13 nossas fileiras de amigos verdadeiros.

14 É por isso que manter amizades importantes, on-line e off-line, requer muito tempo e
15 esforço mental. "Criar amizades é muito caro em termos de tempo: para manter uma amizade,
16 você tem de investir muito tempo na pessoa, de outra forma a amizade inexoravelmente cairá
17 em qualidade", disse Dunbar ao The Huffington Post por e-mail.

18 Nada sobre as mídias sociais muda esse elemento essencial. Isso não significa que a
19 tecnologia nunca nos permita superar as limitações que _____ os grupos sociais dentro de
20 uma intimidade apenas relativa, diz Dunbar. A tecnologia que consegue aproximar interações
21 cara a cara também pode ter um maior peso na conquista de amigos na vida real.

22 A nova tecnologia "provavelmente precisa envolver visão e toque, porque ambas são
23 centrais em como interagimos uns com os outros (e fazem uma grande diferença em nosso nível
24 de satisfação sobre aquela interação)", Dunbar disse ao HuffPost.

25 As descobertas de Dunbar não significam que as amplas redes sociais não ____ valor. As
26 redes sociais on-line permitem que as pessoas coletem informações de um grupo de contatos
27 diverso e amplo, disse Nicole Ellison, professora da Universidade de Michigan, em entrevista ao
28 HuffPost por e-mail.

29 "Transmitir um pedido de informação através de uma atualização do 'status' é uma ótima
30 estratégia para conseguir uma resposta rápida de uma rede diversa", disse Ellison, que pesquisou
31 as redes de amigos do Facebook.

32 Dunbar conclui que pode ser mais fácil manter uma amizade utilizando as mídias sociais,
33 mas afirma que essas ferramentas não são suficientes para evitar que as amizades enfraqueçam
34 e que as redes encolham ao longo do tempo. Sem o contato cara a cara, as amizades tendem a
35 desaparecer.

36 O tempo gasto atualmente no Facebook para manter amizades que estão morrendo poderia
37 ser utilizado no desenvolvimento de novas amizades, mais significativas. E fazer novos amigos,
38 conclui Dunbar, é provavelmente uma melhor maneira de utilizar o próprio tempo. Se você não
39 se esforçar, aquele amigo do Facebook se tornará, inevitavelmente, "um conhecido" do passado,
40 Dunbar escreveu.

(Texto adaptado para esta prova: <http://super.abril.com.br/tecnologia/so-4-amigos-do-facebook-realmente-importam-diz-estudo>)

QUESTÃO 26 – Sobre as lacunas presentes no texto, analise as afirmações abaixo:

- I. Na linha 09, a lacuna ficaria corretamente preenchida por “à”, pois a regra para uso da crase é atendida: preposição a (regência de ‘devido’) + artigo a (palavra feminina ‘empatia’).
- II. A lacuna da linha 19 fica corretamente preenchida com o verbo “mantém”, porque o sujeito da frase é ‘tecnologia’ (l. 19).
- III. Na linha 25, o verbo que preenche corretamente a lacuna é “têm”, pois se refere a ‘amplas redes sociais’ (l. 25).

Quais estão corretas?

- A) Apenas II.
- B) Apenas III.
- C) Apenas I e II.
- D) Apenas I e III.
- E) I, II e III.

QUESTÃO 27 – Analise as afirmações abaixo, assinalando V, se verdadeiras, ou F, se falsas.

- () Na linha 12, o vocábulo “engrossam” é uma forma conotativa de dizer ‘aumentar em número’.
- () O vocábulo “caro” (l. 15) equivale a ‘estimado’ no contexto em que se encontra.
- () “Inexoravelmente” (l. 16) é um advérbio que, no contexto, significa ‘algo inevitável’.

A ordem correta de preenchimento dos parênteses, de cima para baixo, é:

- A) V – V – V.
- B) F – V – F.
- C) V – F – V.
- D) V – F – F.
- E) F – V – V.

QUESTÃO 28 – Assinale a alternativa INCORRETA sobre o que se afirma no texto.

- A) Um grande número de amigos em redes sociais não significa um grande número de amigos verdadeiros.
- B) Preservar amizades relevantes demanda esforços das pessoas.
- C) As pessoas são propensas a manter um grupo pequeno de amigos, tanto na internet quanto na vida real.
- D) As amizades podem até ser mantidas mais facilmente pelas redes sociais, contudo, sem o contato pessoalmente, elas podem acabar.
- E) As redes sociais, em suma, podem facilmente substituir a interação frente a frente entre as pessoas e manter as amizades.

QUESTÃO 29 – Sobre as relações entre letras e fonemas, assinale a alternativa INCORRETA sobre palavras do texto.

- A) A palavra ‘quantidade’ possui apenas um dígrafo vocálico.
- B) Em ‘significam’, há encontro consonantal e não há dígrafo.
- C) Na palavra ‘tecnologia’, o fonema C equivale à pronúncia de mais de uma letra.
- D) No vocábulo ‘conquista’, há apenas um dígrafo.
- E) Em ‘tempo’, há cinco letras e quatro fonemas.

QUESTÃO 30 – Na frase abaixo, a conjunção em destaque poderia ser substituída, sem alteração de sentido, por:

“**Por isso**, apesar de sites de mídia social como o Facebook expandirem nossas redes on-line, eles na verdade não engrossam nossas fileiras de amigos verdadeiros”. (l. 11-13).

- A) Porquanto.
- B) Portanto.
- C) Porque.
- D) Porém.
- E) Pois.

QUESTÃO 31 – Analise as assertivas abaixo sobre alguns sinais de pontuação do texto:

- I. Na linha 04, o travessão poderia ser substituído por uma vírgula, sem causar prejuízos à estrutura da frase.
- II. Os dois-pontos da linha 15 poderiam ser substituídos por ponto final, sem causar alteração ao sentido empregado na frase.
- III. As vírgulas da linha 27 (2ª e 3ª ocorrências) separam um aposto.

Quais estão corretas?

- A) Apenas II.
- B) Apenas III.
- C) Apenas I e II.
- D) Apenas I e III.
- E) I, II e III.

QUESTÃO 32 – Assinale a alternativa que apresenta linguagem conotativa.

- A) O tempo gasto atualmente no Facebook para manter amizades que estão morrendo poderia ser utilizado no desenvolvimento de novas amizades, mais significativas (l. 36-37).
- B) Ter muitos amigos on-line não significa que você terá mais pessoas para lhe ajudar quando estiver deprimido (l. 02-03).
- C) As pessoas tendem a ter um número semelhante de amigos próximos na vida real, de acordo com uma pesquisa anterior de Dunbar sobre redes sociais (l. 10-11).
- D) A nova tecnologia "provavelmente precisa envolver visão e toque, porque ambas são centrais em como interagimos uns com os outros" (l. 22-23).
- E) Robin Dunbar, autor do estudo e psicólogo de Oxford, analisou uma pesquisa com 3.375 usuários do Facebook no Reino Unido (l. 06-07).

QUESTÃO 33 – Analise as afirmações abaixo sobre elementos de coesão do texto:

- I. O pronome possessivo 'sua' (l. 01) se refere ao leitor do texto, atribuindo-lhe "posse" da quantidade de amigos do Facebook.
- II. 'essas pessoas' (l. 08) retoma 'usuários do Facebook no Reino Unido' (l. 07).
- III. Na linha 12, 'eles' substitui 'amigos próximos' (l. 10).

Quais estão INCORRETAS?

- A) Apenas I.
- B) Apenas II.
- C) Apenas III.
- D) Apenas I e II.
- E) Apenas II e III.

QUESTÃO 34 – A palavra "tendência" (l. 04) poderia ser substituída, sem causar alteração semântica, por:

- A) Propensão.
- B) Vocação.
- C) Intenção.
- D) Dificuldade.
- E) Desejo.

QUESTÃO 35 – Na frase "As pessoas tendem a ter um número semelhante de amigos próximos na vida real" (l. 10), o sujeito pode ser classificado como _____, enquanto o verbo, em relação a sua predicação, é _____.

Assinale a alternativa que preenche, correta e respectivamente, as lacunas do trecho acima.

- A) composto – intransitivo
- B) simples – transitivo indireto
- C) paciente – intransitivo
- D) simples – transitivo direto
- E) indeterminado – transitivo indireto

GABARITO

1 A	2 D	3 E	4 A	5 D	6 B	7 C	8 D	9 C	10 E	11 E	12 A	13 E	14 C	15 B
16 E	17 C	18 D	19 B	20 B	21 D	22 D	23 A	24 C	25 D	26 D	27 C	28 E	29 D	30 B
31 E	32 A	33 C	34 A	35 B										

MATEMÁTICA/RACIOCÍNIO LÓGICO

QUESTÃO 01 – O resultado da operação $\frac{2}{3} + \frac{4}{5} - \frac{3}{4}$ é corretamente expresso como:

- A) Três quartos.
- B) Cinco onze avos.
- C) Nove sessenta avos.
- D) Vinte e quatro sessenta avos.
- E) Quarenta e três sessenta avos.

QUESTÃO 02 – Em um campeonato de adivinhações, foi proposto o seguinte desafio para os concorrentes: O dobro de um número mais a metade dele é igual a 20. Que número é esse?

- A) 10.
- B) 8.
- C) 6.
- D) 4.
- E) 2.

QUESTÃO 03 O Pinguins Sport Clube ingressou este ano no campeonato Antártico de Futebol, a tabela abaixo mostra os dez primeiros jogos do clube com seus respectivos gols marcados. Com base na tabela, qual é a média de gols marcados pelo clube?

Partida	1	2	3	4	5	6	7	8	9	10
Gols	2	1	3	0	0	4	2	1	0	1

- A) 14.
- B) 7.
- C) 3,5.
- D) 1,4.
- E) 1.

QUESTÃO 04 – No município existem 4 escolas, sendo que a maior comporta 45% dos alunos matriculados na rede de ensino. A menor, 15% dos alunos. As outras duas comportam o mesmo percentual. Sabendo que há 2.300 alunos matriculados no total, assinale a alternativa que apresenta o número de alunos da maior e da menor escola, respectivamente.

- A) 460 – 345.
- B) 1035 – 460.
- C) 1035 – 345.
- D) 920 – 460.
- E) 1035 – 920.

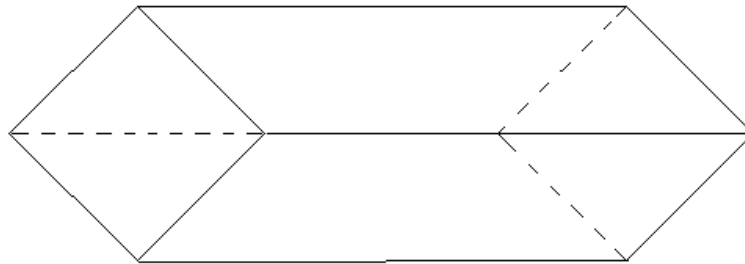
QUESTÃO 05 – Proposição lógica é uma frase que se pode valorar por verdadeiro ou falso. Nesse sentido, são proposições lógicas:

- I. Pedro é carpinteiro.
- II. José anda de motocicleta.
- III. Ande devagar, José.
- IV. Carlos comeu pastel.
- V. Pedro, faça esta casa!

Quais estão corretas?

- A) Apenas I, II e III.
- B) Apenas I, II e IV.
- C) Apenas I, III e IV.
- D) Apenas II, IV e V.
- E) Apenas III, IV e V.

QUESTÃO 06 Um recipiente em forma de losango foi desenvolvido para captação de água da chuva. A figura abaixo demonstra as dimensões do recipiente. Seu volume, em m^3 , é:



D = 6 m
d = 3 m
h = 12 m

- A) 216.
- B) 108.
- C) 54.
- D) 27.
- E) 13,5.

QUESTÃO 07 – Acerca do resultado da seguinte expressão numérica: $\{23 - [18 + (30 \cdot \frac{1}{6})]\}$, assinale a alternativa correta.

- A) É um número positivo.
- B) É um número negativo.
- C) A expressão tem resultado zero.
- D) O resultado não pertence aos números reais.
- E) O resultado não pertence aos números inteiros.

QUESTÃO 08 – O taxímetro trabalha utilizando uma função linear para calcular o preço de uma corrida. Sabendo que a função usada é $F(x) = 2,38x + 4,74$, "x" refere-se aos quilômetros rodados e $f(x)$, ao valor em reais, quanto se cobraria por uma corrida de táxi de 23 quilômetros?

- A) R\$ 111,40.
- B) R\$ 85,12.
- C) R\$ 59,48.
- D) R\$ 30,12.
- E) R\$ 23,00.

QUESTÃO 09 – Um tanque de 600 litros precisa ser esvaziado em 4 horas. Sabendo que uma torneira tem vazão de 50 litros por hora, quantas torneiras serão necessárias para esvaziar o tanque no tempo previsto?

- A) 7.
- B) 6.
- C) 5.
- D) 4.
- E) 3.

QUESTÃO 10 – Um atleta treina diariamente para as competições correndo 800 decâmetros por dia. Sabendo que ele corre 05 dias por semana, quantos quilômetros ele percorre semanalmente?

- A) 40.000 km.
- B) 4.000 km.
- C) 400 km.
- D) 40 km.
- E) 4 km.

MATEMÁTICA

QUESTÃO 11 – Em uma creche comunitária, Paula realiza um projeto de contação de histórias infantis para crianças em uma sala de aula retangular de 3m de comprimento por 2,5m de largura. Nessa situação, a área, em metros quadrados, dessa sala é igual a:

- A) 6,2.
- B) 7,5.
- C) 8,4.
- D) 9,3.
- E) 9,5.

QUESTÃO 12 – João investiu R\$ 5.000,00 em uma instituição financeira, no sistema de juros simples, a uma taxa de 1,5% de juros ao mês. Após um determinado período de tempo, João retirou o valor aplicado mais os juros, um montante de R\$ 5.450,00. Esse tempo, em meses, corresponde a:

- A) 2.
- B) 4.
- C) 6.
- D) 8.
- E) 10.

QUESTÃO 13 – No estoque de uma determinada farmácia, os medicamentos são armazenados em ordem alfabética e em prateleiras. Supondo que na primeira prateleira são colocadas seis caixas, na segunda prateleira, oito caixas, na terceira, dez e assim sucessivamente, formando uma progressão aritmética, a quantidade de caixas que serão colocadas na décima sétima prateleira será igual a:

- A) 15.
- B) 27.
- C) 32.
- D) 38.
- E) 42.

QUESTÃO 14 – Um educador social realizou uma pesquisa com 180 jovens que participam dos projetos culturais em um determinado município. Após as entrevistas, constatou-se que 80 jovens participam da oficina de teatro, 103 participam da oficina de dança, 28 participam de ambas as oficinas e alguns participam de outras atividades oferecidas. Com base nessas informações, a quantidade de jovens que participam de outras oficinas corresponde a:

- A) 25.
- B) 35.
- C) 40.
- D) 48.
- E) 53.

QUESTÃO 15 – Em uma farmácia municipal, quatro funcionários organizam 150 caixas de medicamentos para distribuir para a população de baixa renda. Considerando as mesmas condições de trabalho, para organizar 375 caixas de medicamentos, a quantidade de funcionários necessária seria igual a:

- A) 6.
- B) 7.
- C) 8.
- D) 9.
- E) 10.

QUESTÃO 16 – Um auxiliar administrativo atualizou o registro de estoque de material existente no almoxarifado e constatou a necessidade de comprar alguns itens de materiais de expediente, o que corresponde ao conjunto solução da equação exponencial $2 \cdot 5^{x-8} = 1.250$. Nessa situação, a quantidade de itens necessária para comprar equivale a:

- A) 12.
- B) 15.
- C) 20.
- D) 24.
- E) 32.

QUESTÃO 17 – O número de crianças que frequentam uma creche comunitária corresponde ao número de anagramas formado pela palavra CRECHE, que é igual a:

- A) 150.
- B) 180.
- C) 320.
- D) 540.
- E) 625.

QUESTÃO 18 – Uma fábrica de doces e balas produz 120 balas de caramelo em 20 minutos. Quantas balas de caramelo são produzidas em 1 hora e 30 minutos?

- A) 180.
 - B) 240.
 - C) 360.
 - D) 480.
 - E) 540.
-

RASCUNHO

QUESTÃO 19 – Uma piscina infantil que tem dimensões de 2m de comprimento por 1,25m de largura e 40 cm de profundidade, em formato de um paralelepípedo, está completamente cheia de água. Supondo que, após a utilização da piscina por algumas crianças, a quantidade de água reduziu em 20% do volume inicial, considerando que 1 m³ corresponde a 1.000 litros, a quantidade de água, em litros, que ainda restou na piscina é igual a:

- A) 300.
 - B) 680.
 - C) 760.
 - D) 800.
 - E) 940.
-

QUESTÃO 20 – Em uma campanha publicitária sobre a prevenção de doenças de inverno, foram contratadas 15 pessoas que trabalharam 20 dias para concluir o material de divulgação. Supondo que fossem contratadas 25 pessoas, quantos dias seriam necessários para a conclusão do mesmo material?

- A) 8.
- B) 10.
- C) 12.
- D) 15.
- E) 18.

MATEMÁTICA

QUESTÃO 21 – O ônibus parte do terminal rodoviário a cada 10 minutos e a lotação parte desse mesmo terminal a cada 15 minutos. Supondo que o ônibus e a lotação partiram juntos às 15 horas, qual o horário que voltarão a fazê-lo novamente?

- A) 15 horas e 30 minutos.
- B) 15 horas e 45 minutos.
- C) 16 horas e 10 minutos.
- D) 16 horas e 30 minutos.
- E) 17 horas e 10 minutos.

QUESTÃO 22 – Supondo que 15 auxiliares de telemarketing de uma determinada empresa trabalham no turno da manhã, 25 trabalham no turno da tarde, 12 trabalham no turno da noite e 9 trabalham nos turnos manhã e tarde, quantos auxiliares de telemarketing trabalham nessa empresa?

- A) 18.
- B) 28.
- C) 34.
- D) 43.
- E) 52.

QUESTÃO 23 – Uma pessoa comprou um produto eletrônico por R\$ 84,70 após um aumento de 10% no preço desse produto. Nessa situação, qual era o valor desse produto antes do aumento de preço?

- A) R\$ 67,00.
- B) R\$ 69,00.
- C) R\$ 73,00.
- D) R\$ 75,00.
- E) R\$ 77,00.

QUESTÃO 24 – Três amigas aplicaram um determinado valor e obtiveram 800 reais de juros. No momento de repartir os juros obtidos, distribuíram da seguinte forma: a primeira recebeu 75% do total menos R\$ 200,00, a segunda recebeu $\frac{1}{4}$ do total de juros mais R\$ 150,00 e a terceira recebeu o valor restante. Nessa situação, qual o valor recebido pela terceira amiga?

- A) R\$ 50,00.
- B) R\$ 80,00.
- C) R\$ 100,00.
- D) R\$ 150,00.
- E) R\$ 200,00.

QUESTÃO 25 – Em um departamento da prefeitura foram consumidos 15 litros de água em copos de 250ml. Considerando que foi utilizada a capacidade máxima do copo, sem desperdícios de água, quantos copos de água foram consumidos?

- A) 30.
- B) 60.
- C) 70.
- D) 90.
- E) 100.

QUESTÃO 26 – No departamento jurídico de uma empresa, 35 funcionários falam fluentemente inglês, 23 falam com fluência espanhol e 12 funcionários falam ambos os idiomas. Nessa situação, a quantidade total de funcionários que trabalha no departamento jurídico é igual a:

- A) 11.
 - B) 23.
 - C) 35.
 - D) 46.
 - E) 54.
-

QUESTÃO 27 – Para a reunião mensal do comitê estratégico de uma empresa, participaram oitenta fiscais tributários. Supondo que participaram economistas correspondendo a 15% da quantidade de fiscais tributários, o número total de fiscais tributários e economistas que participaram dessa reunião é equivalente a:

- A) 28.
 - B) 56.
 - C) 84.
 - D) 92.
 - E) 98.
-

QUESTÃO 28 – Paulo comprou 96 garrafas de 0,75 litro, cada uma, de refresco de uva. Supondo que as garrafas fossem de 600 mL de capacidade máxima, quantas garrafas seriam necessárias para acondicionar o refresco?

- A) 72.
 - B) 84.
 - C) 96.
 - D) 105.
 - E) 120.
-

QUESTÃO 29 – Das 150 crianças de uma escola de educação infantil 50% foram vacinadas contra a gripe H1N1 e 18% foram vacinadas contra a catapora. Sabendo que 19 crianças foram vacinadas contra ambas as doenças, a quantidade de crianças que não foram vacinadas é igual a:

- A) 28.
 - B) 56.
 - C) 67.
 - D) 75.
 - E) 83.
-

QUESTÃO 30 – No fórum de uma cidade, um agente administrativo organizou 40% dos processos nos arquivos passivos, o que corresponde a 160 processos. Considerando que no dia seguinte arquivou 65% do total dos processos ainda restantes, a quantidade de processos que ainda falta arquivar corresponde a:

- A) 84.
- B) 156.
- C) 240.
- D) 324.
- E) 400.

MATEMÁTICA

QUESTÃO 31 – Um objeto lançado ao ar desenvolve uma trajetória descrita por $y = -3x^2 - 3x + 9$, onde y é a altura em metros. Qual foi a altura máxima, em metros, atingida por esse objeto?

- A) 6,25.
- B) 7,50.
- C) 8,25.
- D) 9,75.
- E) 10,00.

QUESTÃO 32 – Considerando que, em um grupo de atletas, 20 praticam natação; 30, maratona; 12, as duas modalidades e 15, futebol, quantos atletas há nesse grupo?

- A) 53.
- B) 58.
- C) 60.
- D) 65.
- E) 72.

QUESTÃO 33 – Se, em uma indústria, 10 máquinas produzem 4.250 peças trabalhando 6 horas por dia durante 7 dias, o número de máquinas necessárias para que essa indústria produza a mesma quantidade de peças em 15 dias, trabalhando 4 horas por dia, será de:

- A) 5.
- B) 7.
- C) 8.
- D) 12.
- E) 14.

QUESTÃO 34 – Após iniciar o processo de esvaziamento de uma piscina em formato de paralelepípedo com a base medindo 4,2m de largura e 5,0m de comprimento, o nível da água havia baixado 25 cm. Quantos m^3 de água foram retirados dessa piscina nesse período?

- A) 4,60.
- B) 5,25.
- C) 5,80.
- D) 6,15.
- E) 6,30.

QUESTÃO 35 – Quantos cm^2 de papel são necessários para construir uma pirâmide regular de base quadrada com o lado medindo 18 cm e a altura 12 cm? Observação: considerar a área da base também.

- A) 748.
- B) 760.
- C) 864.
- D) 900.
- E) 926.

QUESTÃO 36 – Conforme indicadores econômicos, o valor de uma ação na bolsa de valores teve um aumento de 5% e passou a valer R\$ 16,59. Qual era o valor dessa ação antes do aumento?

- A) R\$ 14,70.
- B) R\$ 15,00.
- C) R\$ 15,20.
- D) R\$ 15,50.
- E) R\$ 15,80.

QUESTÃO 37 – Sabe-se que o preço de 4 revistas e 3 agendas é R\$ 68,70 e 3 revistas e uma agenda é R\$ 35,90. A partir dessas informações, qual é o preço de 2 revistas e 2 agendas?

- A) R\$ 35,80.
- B) R\$ 38,20.
- C) R\$ 40,60.
- D) R\$ 41,90.
- E) R\$ 43,10.

QUESTÃO 38 – Em uma empresa, trabalham 6 mecânicos e 3 técnicos. Quantas comissões diferentes compostas por 4 mecânicos e 2 técnicos podem ser formadas para prestar assistência técnica a um cliente?

- A) 30.
- B) 36.
- C) 40.
- D) 45.
- E) 48.

QUESTÃO 39 – Sabe-se que, de um grupo com 80 mulheres, 20 são casadas, 60 são solteiras e 8 têm curso de especialização. A partir dessas informações, qual é a probabilidade de escolher, ao acaso, uma mulher solteira e que tenha curso de especialização?

- A) 7,5%.
- B) 12,6%.
- C) 18,0%.
- D) 25,0%.
- E) 28,4%.

QUESTÃO 40 – Um automóvel demora 1h e 25min para percorrer uma distância, desenvolvendo uma velocidade média de 80 km/h. Se a velocidade média fosse de 100 km/h, quanto tempo esse automóvel levaria para percorrer o mesmo trajeto?

- A) 1h.
- B) 1h e 8 min.
- C) 1h e 10 min.
- D) 1h e 12 min.
- E) 1h e 15 min.

GABARITO

1 E	2 B	3 D	4 C	5 B	6 B	7 C	8 C	9 E	10 D	11 B	12 C	13 D	14 A	15 E
16 A	17 B	18 E	19 D	20 C	21 A	22 D	23 E	24 A	25 B	26 D	27 C	28 E	29 C	30 A
31 D	32 A	33 B	34 B	35 C	36 E	37 C	38 D	39 A	40 B					

INFORMÁTICA

Para a resolução das questões desta prova, considere os seguintes detalhes: (1) o mouse está configurado para uma pessoa que o utiliza com a mão direita (destro) e usa, com maior frequência, o botão esquerdo, que possui as funcionalidades de seleção ou de arrastar normal, entre outras. O botão da direita serve para ativar o menu de contexto ou de arrastar especial; (2) os botões do mouse estão devidamente configurados com a velocidade de duplo clique; (3) os programas utilizados nesta prova foram instalados com todas as suas configurações padrão, entretanto, caso tenham sido realizadas alterações que impactem a resolução da questão, elas serão alertadas no texto da questão ou mostradas visualmente, se necessário; (4) no enunciado e nas respostas de algumas questões existem letra(s), palavra(s) ou texto(s) que foram digitados entre aspas, apenas para destacá-los. Neste caso, para resolver as questões, desconsidere tais aspas e atente-se somente para a(s) letra(s), palavra(s) ou texto(s) propriamente ditos; e (5) para resolver as questões desta prova, considere, apenas, os recursos disponibilizados para os candidatos, tais como essas orientações, os textos introdutórios das questões, disponibilizados antes das Figuras, os enunciados propriamente ditos e os dados e informações disponíveis nas Figuras das questões, se houver.

A questão 19 baseia-se nas Figuras 1(a) e 1(b) do Windows 8.1 Pro. A Figura 1(a) mostra a janela principal da "Lixeira". A Figura 1(b) exhibe a caixa de diálogo "Propriedades de Lixeira", com as configurações que estão ativas no computador objeto dessa questão.

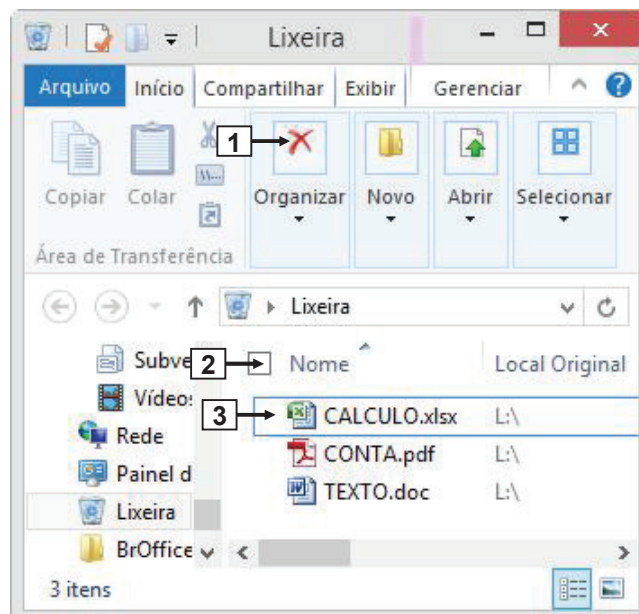


Figura 1(a) – Janela principal da "Lixeira"

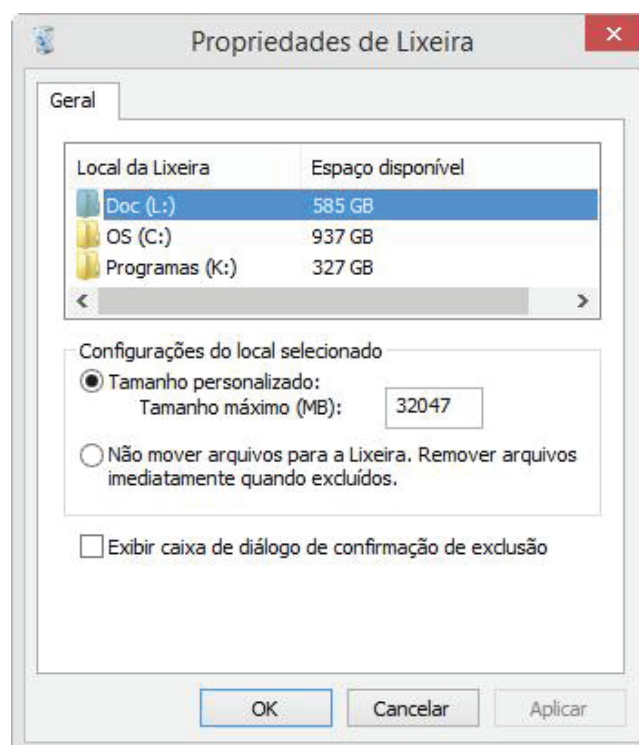


Figura 1(b) – Caixa de diálogo "Propriedades de Lixeira"

QUESTÃO 19 – Sobre as Figuras 1(a) e 1(b) do Windows 8.1 Pro, descritas anteriormente, nas quais se baseia essa questão, analise as assertivas abaixo:

- I. Para excluir o arquivo "CALCULO.xlsx", apontado pela seta nº 3 (Figura 1(a)), basta dar um clique, com o botão esquerdo do mouse, sobre o ícone apontado pela seta nº 1.
- II. Dando-se um clique, com o botão esquerdo do mouse, exatamente dentro do pequeno quadrado, apontado pela seta nº 2 (Figura 1(a)), pode-se afirmar que serão selecionados todos os arquivos existentes dentro da "Lixeira".
- III. Na Figura 1(a), pressionando-se a tecla "Delete" do teclado, será removido, da "Lixeira", o arquivo "CALCULO.xlsx", apontado pela seta nº 3, sem que antes seja exibida qualquer caixa de diálogo solicitando a confirmação da exclusão desse arquivo.

Quais estão corretas?

- A) Apenas I.
- B) Apenas II.
- C) Apenas I e II.
- D) Apenas II e III.
- E) I, II e III.

A questão 20 baseia-se nas Figuras 2(a) e 2(b) do Word 2007. A Figura 2(a) mostra a janela principal desse editor de texto, na qual a palavra "Operação", apontada pela seta nº 1, encontra-se selecionada. Sobre a Figura 2(b), considere os seguintes aspectos: (1) ela foi ativada a partir da Figura 2(a); essa Figura mostra, intencionalmente, apenas parte da caixa de diálogo "Localizar e substituir", onde se visualizam as opções do "Localizar em", apontadas pela seta nº 3.

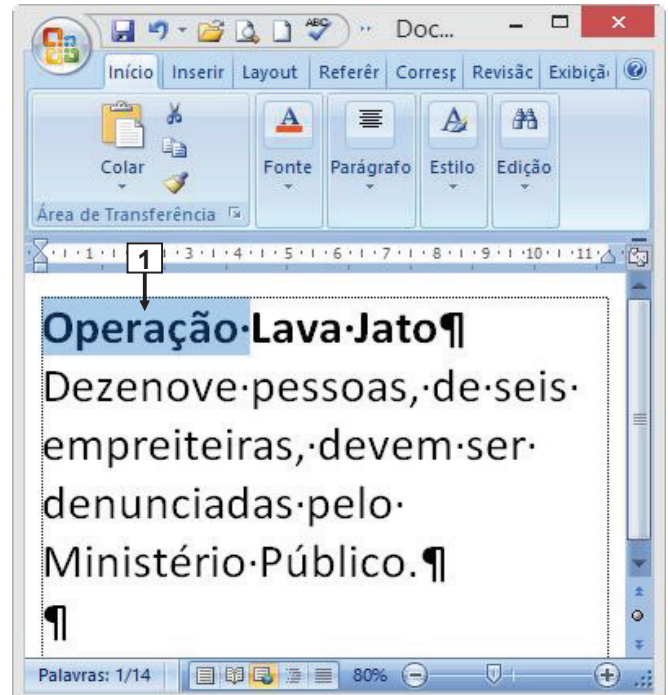


Figura 2(a) – Janela principal do Word 2007

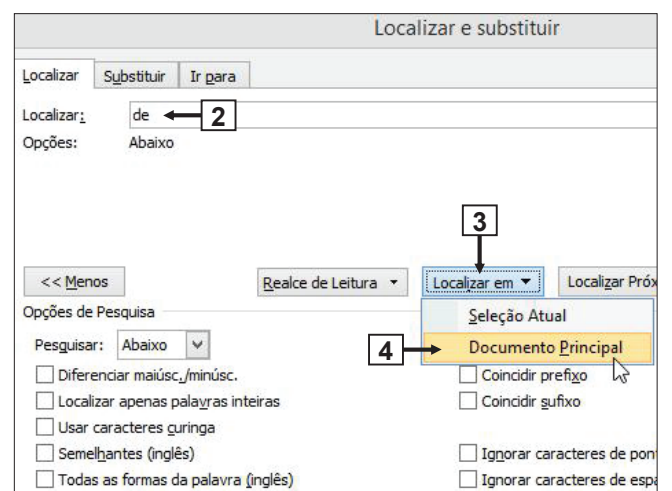
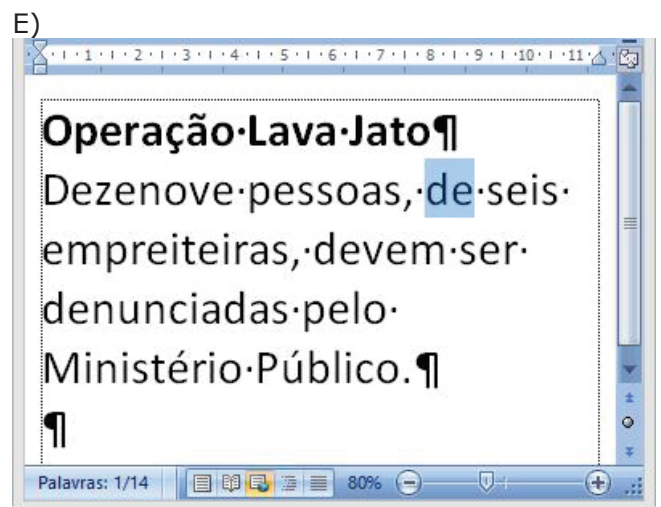
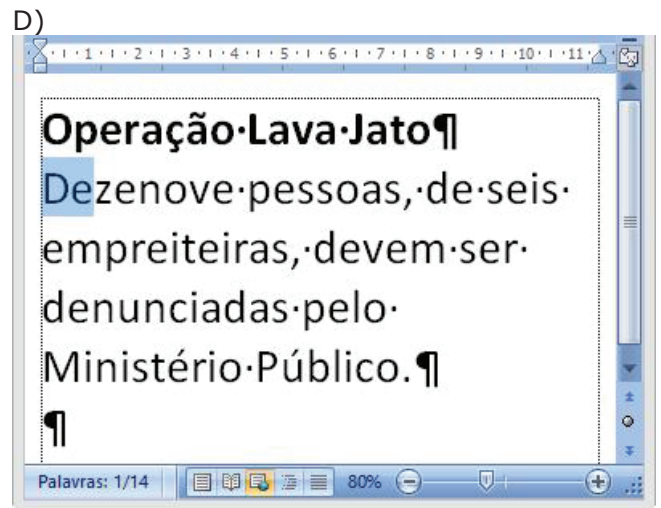
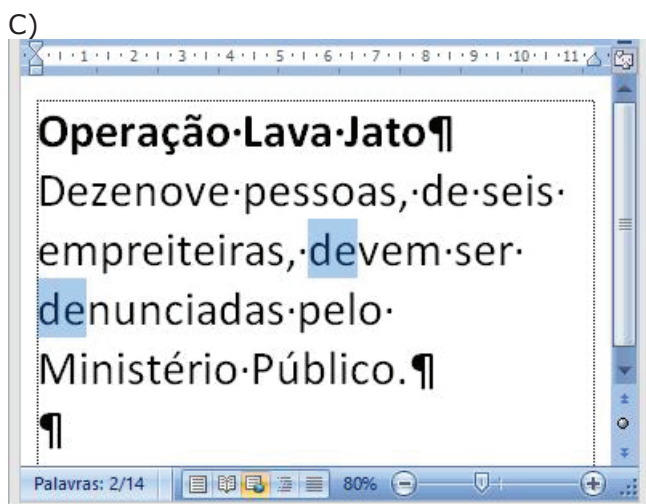
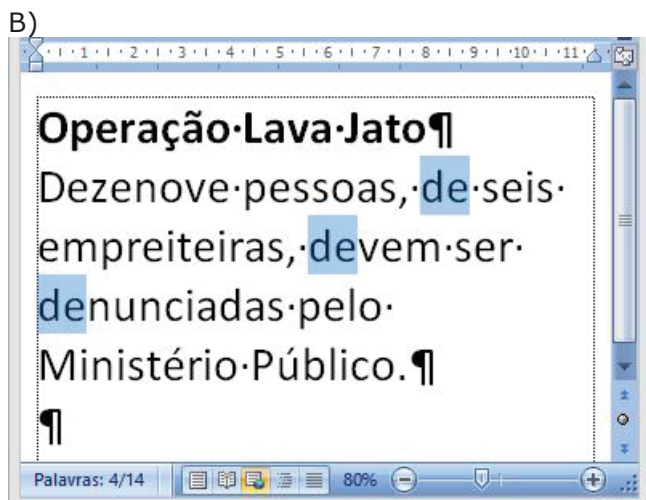
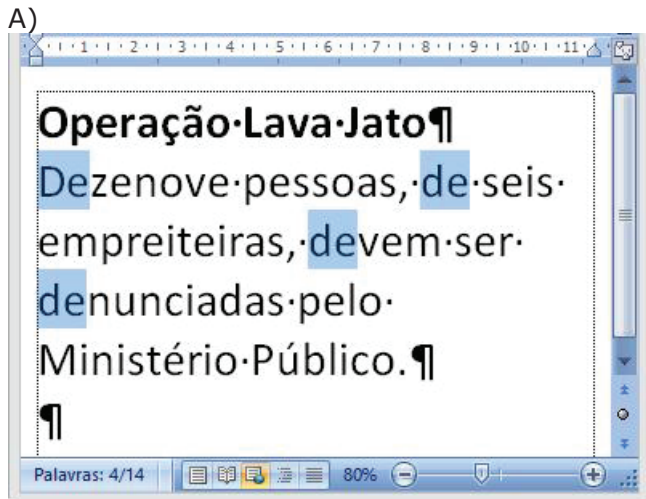


Figura 2(b) – Caixa de diálogo "Localizar e substituir"

QUESTÃO 20 – Após se ter ativado a caixa de diálogo "Localizar e substituir" (Figura 2(b)), a partir da janela principal do Word 2007, mostrada na Figura 2(a), realizou-se, sequencialmente, as seguintes ações: (1) digitou-se, no local apontado pela seta nº 2, "de"; e (2) selecionou-se a opção "Documento Principal", apontada pela seta nº 4. Após essas ações, pode-se afirmar que a área de trabalho desse editor de texto será exibida da seguinte forma:



A questão 21 baseia-se na Figura 3, que mostra a janela principal do Excel 2007, na qual se selecionou o intervalo de células A3:D8. Acima dessa Figura, ampliou-se e destacou-se alguns ícones, de modo a facilitar a visualização e a resolução da questão.

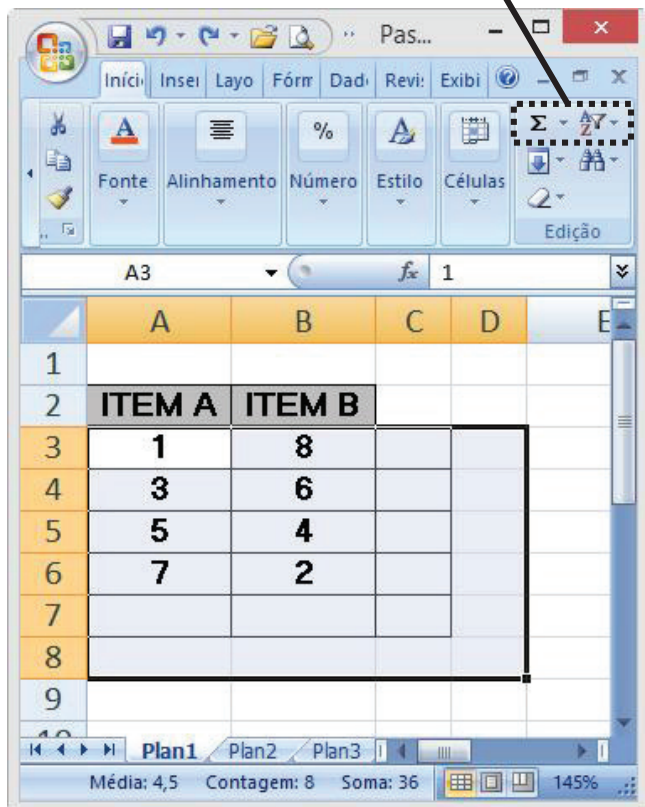
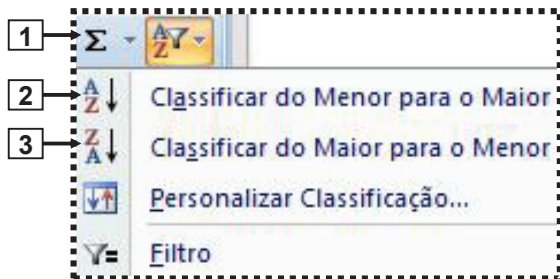


Figura 3 – Janela principal do Excel 2007

QUESTÃO 21 – Na Figura 3, do Excel 2007, dando-se um clique, com o botão esquerdo do mouse, sobre o ícone apontado pela seta nº

I. 1, pode-se afirmar que a área de trabalho dessa planilha eletrônica será exibida da seguinte forma:

	A	B	C	D	E
1					
2	ITEM A	ITEM B			
3	1	8	9		
4	3	6	9		
5	5	4	9		
6	7	2	9		
7	16	20	36		
8					
9					

II. 2, pode-se afirmar que a área de trabalho dessa planilha eletrônica será exibida da seguinte forma:

	A	B	C	D	E
1					
2	ITEM A	ITEM B			
3	1	8			
4	3	6			
5	5	4			
6	7	2			
7					
8					
9					

III. 3, pode-se afirmar que a área de trabalho dessa planilha eletrônica será exibida da seguinte forma:

	A	B	C	D	E
1					
2	ITEM A	ITEM B			
3	7	2			
4	5	4			
5	3	6			
6	1	8			
7					
8					
9					

Quais estão corretas?

- A) Apenas II.
- B) Apenas I e II.
- C) Apenas I e III.
- D) Apenas II e III.
- E) I, II e III.

A questão 22 baseia-se na Figura 4, que mostra uma página eletrônica da Secretaria da Educação do Rio Grande do Sul, disponível na Internet, que foi acessada por meio do navegador Internet Explorer 11. Nessa Figura, inseriu-se, intencionalmente, no local apontado pela seta nº 1, um retângulo, de modo a ocultar qualquer marcação existente nesse local.

GABARITO

19	B	INFORMÁTICA
20	A	INFORMÁTICA
21	D	INFORMÁTICA
22	D	INFORMÁTICA

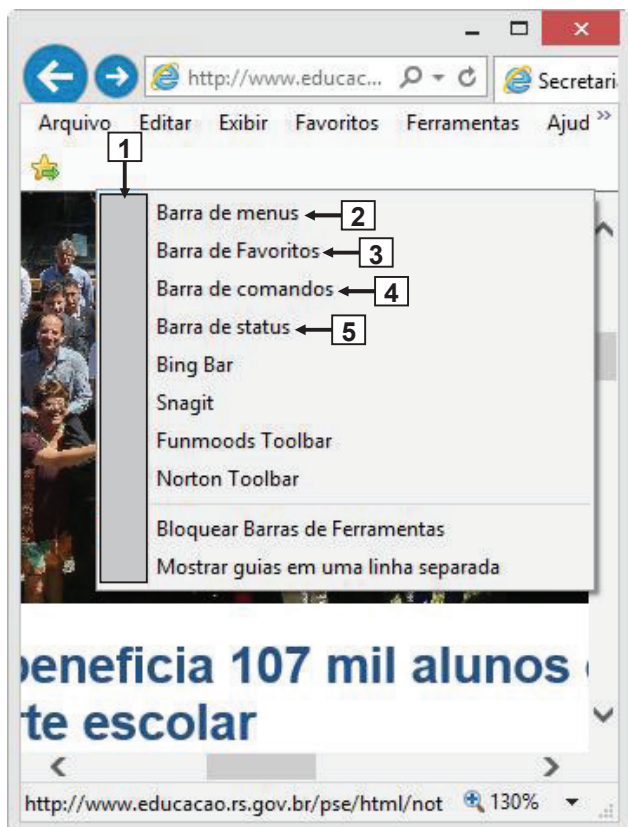


Figura 4 – Página eletrônica

QUESTÃO 22 – A Figura 4 exibe a janela principal do navegador Internet Explorer 11 (IE 11), sobre a qual se visualiza um menu com diversas opções. Nesse menu, inseriu-se, intencionalmente, no local apontado pela seta nº 1, um retângulo para ocultar os itens de menu que se encontram marcados, ou seja, ativos nesse navegador. Portanto, após observar tal Figura, pode-se afirmar que se encontra marcado, nesse menu, o item de menu apontado pela seta nº:

- I. 2 ("Barra de menus").
- II. 3 ("Barra de Favoritos").
- III. 4 ("Barra de comandos").
- IV. 5 ("Barra de status").

Quais estão corretas?

- A) Apenas I e IV.
- B) Apenas II e III.
- C) Apenas I, II e III.
- D) Apenas I, II e IV.
- E) I, II, III e IV.

Noções de Informática

21

Um computador é capaz de armazenar uma grande quantidade de informações. Para tal, diferentes dispositivos de memória são utilizados, segundo fatores tais como tamanho, volatilidade e velocidade de acesso à informação.

São, respectivamente, dispositivos de memória dinâmica e de massa o(a):

- (A) memória ROM programável (PROM) e o ROM programável apagável (EPROM);
- (B) disco rígido (HDD) e o bluRay Disc;
- (C) ROM programável apagável (EPROM) e a memória de acesso randômico (RAM);
- (D) bluRay Disc e a memória ROM programável (PROM);
- (E) memória de acesso randômico (RAM) e o disco rígido (HDD).

22

Jorge, Agente Censitário de Informática do IBGE, está ajudando o departamento de tecnologia da informação a comprar estações de trabalho que serão utilizadas pelos funcionários do departamento. Seus superiores indicaram que essas estações precisam de uma configuração de CPU moderna e de acesso rápido à unidade de armazenamento do computador. Considerando a mais nova arquitetura de CPU e o acesso mais veloz à unidade de armazenamento, a melhor estação para compra é a que possui:

- (A) Intel Celeron e SSHD;
- (B) AMD Athlon e SSD;
- (C) Intel i7 e SSHD;
- (D) AMD Athlon e HDD;
- (E) Intel i7 e SSD.

23

Entidades públicas e privadas vêm adotando medidas para aumentar a proteção de seus usuários, tornando mais difícil para um terceiro obter dados sensíveis. Uma dessas medidas visa prevenir o acesso à conta do usuário, mesmo que o terceiro conheça a sua senha. Essa medida requer que, além da senha, o usuário utilize um dispositivo, ou outro método por ele aprovado, para liberar acesso às informações da sua conta.

Essa medida refere-se à(às):

- (A) chave pública e chave privada;
- (B) senha forte;
- (C) verificação em duas etapas;
- (D) criptografia de senhas;
- (E) chaves RSA.

24

O Antivírus do departamento de tecnologia da informação de uma empresa identificou que um programa de computador invadiu máquinas de funcionários do departamento e abriu portas através das quais é possível controlar os sistemas afetados sem que os usuários percebam.

Esse tipo de ataque ou técnica encontrada pelo Antivírus é o:

- (A) backdoor;
- (B) bug;
- (C) bloatware;
- (D) dns poisoning;
- (E) adware.

25

Observe a figura a seguir que ilustra três quadros numerados contendo elementos encontrados em um sistema de arquivos.

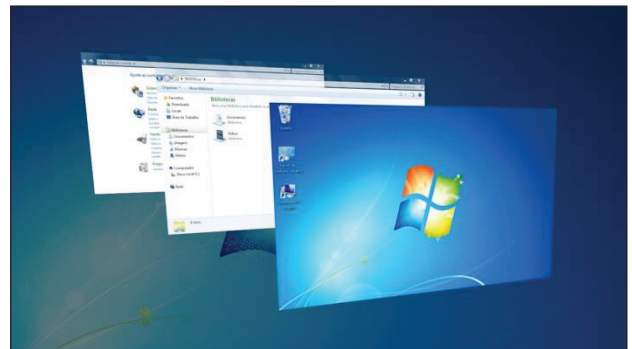


A opção que associa corretamente o quadro numerado e seu item sublinhado é:

- (A) 1- Nome do Arquivo; 2- Separador; 3- Complemento do arquivo;
- (B) 1- Nome do Arquivo; 2- Complemento do arquivo; 3- Separador;
- (C) 1- Diretório; 2- Nome do Arquivo; 3- Extensão do arquivo;
- (D) 1- Diretório; 2- Separador; 3- Complemento do arquivo;
- (E) 1- Separador; 2- Nome do Arquivo; 3- Extensão do Arquivo.

26

Observe a seguinte tela do Windows 7.

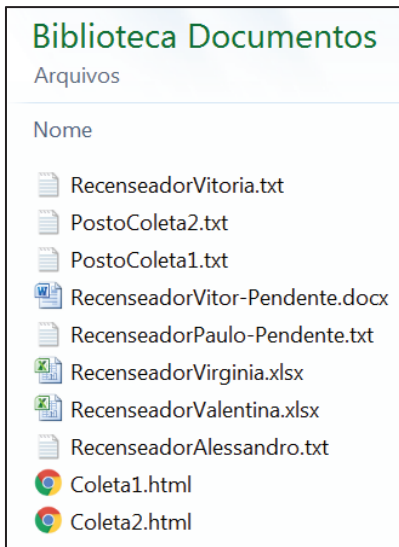


Para percorrer os botões da barra de tarefas usando o Aero Flip 3D, alternando entre janelas abertas, deve-se pressionar as teclas:

- (A) ALT+TAB
- (B) CTRL+ALT
- (C) CTRL+TAB
- (D) Logotipo do Windows + P
- (E) Logotipo do Windows + TAB

27

Observe a figura a seguir, que ilustra parte da lista de arquivos sobre o Censo Agropecuário 2017 armazenados no computador de Pedro com Windows 7 instalado.



Pedro precisa filtrar os arquivos dos recenseadores que não estão pendentes. Para isso, Pedro estabeleceu o seguinte critério de pesquisa sobre o nome do arquivo:

- Deve conter a palavra *Recenseador*;
- Não pode conter a palavra *Pendente*; e
- Pode ser de qualquer tipo.

Para executar essa pesquisa, no Windows Explorer, Pedro deve utilizar o filtro:

- (A) "Recenseador" NOT Pendente
- (B) Recenseador (marca: -Pendente)
- (C) Recenseador?-Pendente (tipo: *)
- (D) (nome: Recenseador marca: -Pendente tipo: *)
- (E) (nome: Recenseador nome: ~!Pendente)

28

No Windows 7, para abrir o Menu Iniciar deve-se pressionar a tecla:

- (A) ESC
- (B) TAB
- (C) ALT
- (D) CTRL
- (E) Logotipo do Windows

29

Observe a figura a seguir, que ilustra o acesso ao site do IBGE disponível na Internet.



Com relação ao endereçamento de recursos na Internet, analise as afirmativas a seguir:

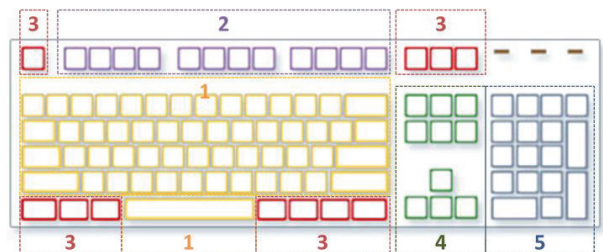
- I. **www.ibge.gov.br/home/** é uma URL (Uniform Resource Locator).
- II. **home** é o local, de endereçamento lógico ou físico, onde se encontra o recurso (ex.: arquivo) dentro do servidor.
- III. **www.ibge.gov.br** é o domínio principal que indica o endereço do servidor.

Está correto o que se afirma em:

- (A) somente I;
- (B) somente II;
- (C) somente III;
- (D) somente I e II;
- (E) I, II e III.

30

Observe a figura a seguir, que ilustra o diagrama de um teclado genérico com agrupamentos de teclas.



O grupo de teclas número 2 representa teclas de:

- (A) função;
- (B) controle;
- (C) navegação;
- (D) digitação alfanumérica;
- (E) numeração.

31

No Windows 7, para capturar a imagem da janela ativa, aquela que está em primeiro plano na tela, devem-se pressionar a(s) tecla(s):

- (A) ALT + PrintScreen
- (B) PrintScreen
- (C) Backspace
- (D) Logotipo do Windows + T
- (E) Logotipo do Windows + P

32

Observe a figura a seguir, que ilustra um dispositivo móvel com o cabo a ser conectado em um computador utilizado por Paulo.

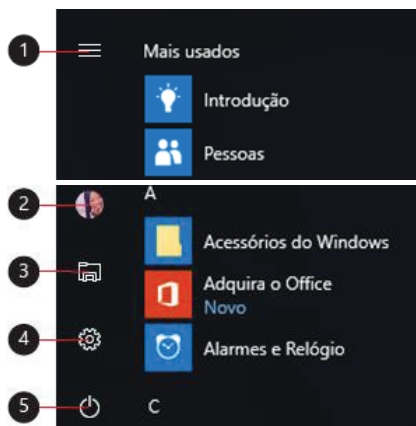


Para transferir dados do dispositivo móvel para o computador, Paulo deve conectar o periférico usando a porta:

- (A) DVI;
- (B) HDMI;
- (C) Ethernet;
- (D) USB;
- (E) VGA.

33

Observe os itens do Menu Iniciar do Windows 10 enumerados na figura a seguir.

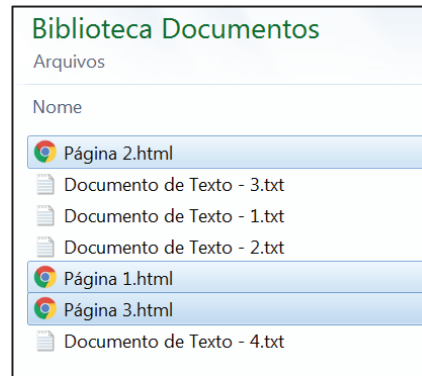


Ao clicar no item número 4 (), será possível acessar a função:

- (A) Menu;
- (B) Conta;
- (C) Ligar/Desligar;
- (D) Configurações;
- (E) Explorador de Arquivos.

34

Paulo precisa selecionar alguns arquivos para serem copiados, conforme ilustrado na figura a seguir.



Para selecionar mais de um dos arquivos que não estão listados de forma sequencial, Paulo deve clicar em cada arquivo enquanto pressiona a tecla:

- (A) ALT
- (B) TAB
- (C) ESC
- (D) SHIFT
- (E) CTRL






35

O recurso que proporciona a maior capacidade de armazenamento de arquivos é:

- (A) Conexão internet de 10Mbps;
- (B) 16 GB de memória RAM;
- (C) 1 TB de disco rígido do tipo SSD;
- (D) 2 MB de memória de vídeo;
- (E) Processador QuadCore 64 bits.






36

No Windows 10, para abrir a Central de Ações, deve-se clicar no ícone:

- (A) 
- (B) 
- (C) 
- (D) 
- (E) 

37

A parte do sistema computacional que realiza as instruções de um programa de computador executando operações básicas de aritmética, lógica e entrada/saída de dados é o(a):

- (A)  Mouse
- (B)  Monitor
- (C)  Teclado
- (D)  Impressora
- (E)  CPU

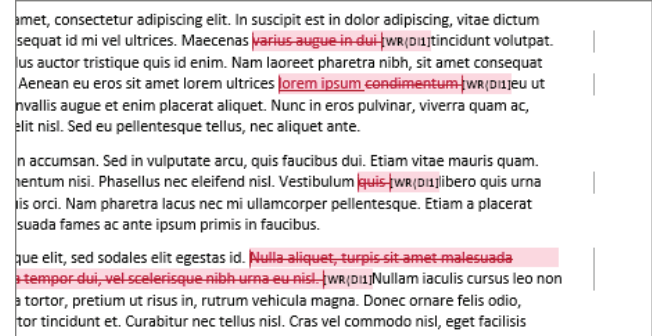
38

O dispositivo de rede normalmente usado para criar um acesso para Internet ou uma rede de computadores sem a necessidade de cabos para conectá-los é o:

- (A)  Roteador wireless
- (B)  Hard Disk
- (C)  Chip de memória
- (D)  Disco ótico
- (E)  Pen drive

39

Observe o seguinte recorte da imagem de um texto elaborado no Microsoft Word 2013.

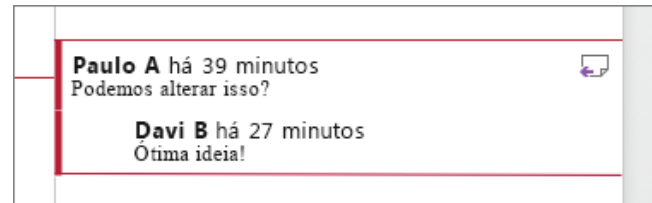


O recurso ativado que é útil para quando o documento está quase concluído e há diversas pessoas trabalhando nele é:

- (A) inserir citação;
- (B) marcar entrada;
- (C) restringir edição;
- (D) controlar alterações;
- (E) comparar documentos.

40

Davi elaborou um documento no Microsoft Word 2013 que está sendo revisado por Paulo. Observe a figura a seguir, que ilustra o balão de um comentário do documento editado por Davi e Paulo no qual está registrado o diálogo entre eles.



O recurso utilizado por Davi é:

- (A) aceitar alteração;
- (B) mostrar marcação;
- (C) responder comentário;
- (D) verificar acessibilidade;
- (E) selecionar destinatários.

41

Observe a figura a seguir, que ilustra a representação de um documento elaborado no Microsoft Word 2013 no qual as páginas estão numeradas com diferentes formatações.



Para adicionar números de página com diferentes formatos em diferentes seções deve-se:

- (A) formatar números de página com quebra de seção contínua;
- (B) inserir cabeçalho e rodapé com primeira página diferente;
- (C) usar a ferramenta de partes rápidas com códigos de campo;
- (D) dividir o documento em seções e verificar se estas seções não estão vinculadas;
- (E) marcar o ponto em que uma página termina e a próxima página começa.

42

Observe a seguinte figura, que ilustra um documento editado no Microsoft Word 2013, com apenas uma pequena quantidade de texto na última página.



O recurso utilizado para evitar a impressão de uma página extra, alterando ligeiramente o tamanho e o espaçamento do texto, é:

- (A) Agrupar;
- (B) Ajustar Texto;
- (C) Reduzir uma Página;
- (D) Ocultar Marcas de Edição;
- (E) Zoom do documento para 100%.

43

Com relação à comunicação através de Redes Computacionais, analise as afirmativas a seguir:

- I. Para conectar dois computadores diretamente pelas suas respectivas placas de rede, é necessário um cabo crossover.
- II. A Intranet é uma rede de computadores de uso exclusivo de uma empresa, que só pode ser acessada internamente pelos seus funcionários.
- III. Spam são mensagens de e-mail não desejadas e enviadas em massa para múltiplas pessoas que, normalmente, possui propagandas indesejadas, códigos maliciosos e vírus diversos.

Está correto o que se afirma em:

- (A) somente I;
- (B) somente II;
- (C) somente III;
- (D) somente I e II;
- (E) I, II e III.

44

A alternativa que apresenta o texto formatado de acordo com a sua descrição é:

- (A) *negrito*
- (B) **itálico**
- (C) sublinhado
- (D) tachado
- (E) ~~sobrescrito~~

45

Observe a figura a seguir, que ilustra as configurações do computador de Pedro.

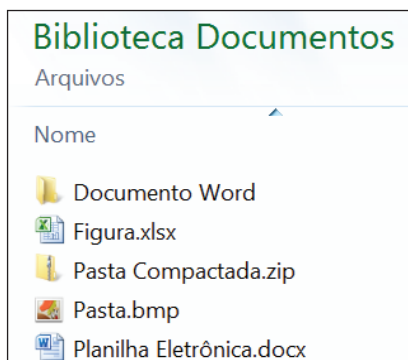


Sobre as configurações do computador de Pedro, é correto afirmar que:

- (A) o clock do processador é 2.80 GHz;
- (B) o disco rígido possui apenas alguns megabytes livres;
- (C) a memória principal possui 640 Megabytes;
- (D) a velocidade de internet é de 64Mbps;
- (E) o processador possui 7 núcleos.

46

Observe a figura a seguir, que ilustra diversos itens de uma Biblioteca de Documentos do Windows 7.



O arquivo que possui o nome correspondente ao seu tipo é:

- (A) Documento Word
- (B) Figura.xlsx
- (C) Pasta Compactada.zip
- (D) Pasta.bmp
- (E) Planilha Eletrônica.docx

47

Observe a seguinte figura, que, ilustra uma planilha eletrônica elaborada no Microsoft Excel 2013.

	A	B
1	Unidade	Quantidade
2	Fazenda	10
3	Granja	15
4	Sítio	30
5	Chácara	5

O recurso utilizado para realçar as células de interesse, utilizando uma barra de dados, é:

- (A) Gráficos;
- (B) Classificação;
- (C) Estilos de Células;
- (D) Segmentação de Dados;
- (E) Formatação Condicional.

48

Observe a seguinte figura, que ilustra uma planilha eletrônica elaborada no Microsoft Excel 2013.

	A	B	C
1	Atividade	Quantidade	
2	Criação de peixes	10	
3	Silvicultura	5	
4	Hidroponia	2	
5		=CONT.NÚM(B2:B4)	

O resultado da fórmula =CONT.NÚM(B2:B4) é:

- (A) 2
- (B) 3
- (C) 5
- (D) 10
- (E) 17

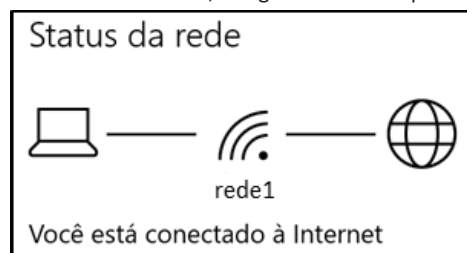
49

Para navegar na Internet é necessário utilizar um programa do tipo browser, como o Internet Explorer e o(a):

- (A) Google Chrome;
- (B) Painel de Controle;
- (C) Central de Rede e Compartilhamento;
- (D) Microsoft Word;
- (E) Central de Acessibilidade.

50

Pedro verificou o status da rede do computador em que estava trabalhando. No Windows 10, a seguinte tela foi apresentada.



Sobre o computador de Pedro, é correto afirmar que:

- (A) está no Modo Avião;
- (B) há uma conexão Bluetooth;
- (C) é necessário configurar uma VPN;
- (D) está conectado à Internet por uma rede sem fio;
- (E) foi criada uma conexão discada para acessar a Internet.

GABARITO

21-E	22-E	23-C	24-A	25-E
26-E	27-E	28-E	29-E	30-A
31-A	32-D	33-D	34-E	35-C
36-E	37-E	38-A	39-D	40-C
41-D	42-C	43-E	44-C	45-A
46-C	47-E	48-B	49-A	50-D

Morfossintaxe

Ninguém sabia, nem pretendia saber, por que ou como Lanebbia e seus associados se interessavam por um bando de maníacos como nós, gente estranha, supostamente inteligente, que passava horas lendo ou discutindo inutilidades. Gente, dizia-se, que brilharia no corpo docente de qualquer universidade; especialistas que qualquer editora contrataria por somas astronômicas (certos astros não são muito grandes). Era um enigma também para nós; mas, lamentações à parte, sabíamos de nossa incompetência, também astronômica (alguns astros são bastante grandes), para lidar com contratos, chefes, prazos e, sobretudo, reivindicações salariais. Tínhamos, além disso, algumas doenças comuns a todo o grupo, ou quase todo: a bibliomania mais crônica que se possa imaginar, uma paixão neurótico-deliqüencial por textos antigos, que nos levava frequentemente a visitas subservientes a párcos, conventos, igrejas e colégios. Procurávamos criar relacionamentos que facilitassem o acesso a qualquer velharia escrita. Que poderia estar esperando por nós, por que não?, desde séculos, ou décadas. Conheçíamos armários, sótãos, porões e cofres de sacristias, bibliotecas, batistérios ou cenáculos, bem melhor do que seus proprietários ou curadores. Tínhamos achado preciosidades que muitos colecionadores cobiçariam.

Descobrir esses esconderijos era uma espécie de hobby nosso nos fins de semana, quando saíamos atrás de boa comida, bons vinhos e velhos escritos.

Isaias Pessotti. Aqueles cães malditos de Arquelaú. Rio de Janeiro: Ed. 34, 1993, p. 11 (com adaptações).

- 01.** (2014 - CADE - Agente Administrativo) Seria mantida a correção gramatical do texto caso a expressão “melhor do que”, em destaque no texto, fosse substituída por melhor que.



GABARITO: CERTO.

Ambas as expressões estão corretas e são adjetivos que estão em grau comparativo. Pode-se empregar qualquer uma delas.

- 02.** (2014 - CADE - Agente Administrativo) O emprego de formas verbais no pretérito imperfeito, como, por exemplo, “Procurávamos” e “Conheçíamos”, em destaque no texto, está associado à ideia de habitualidade, continuidade ou duração.



GABARITO: CERTO.

Os termos “procurávamos” e “conheçíamos” estão no pretérito imperfeito. Sobre os tempos verbais, é importante saber que eles expressam sentidos. Para o pretérito imperfeito, o sentido é de algo repetitivo, contínuo, habitual.

- 03.** (2014 - CADE - Agente Administrativo) Nos trechos “que qualquer editora contrataria por somas astronômicas” e “que muitos colecionadores cobiçariam”, em destaque no texto, o vocábulo “que” introduz orações adjetivas restritivas, nas quais exerce a função de complemento verbal.



GABARITO: CERTO.

Como ambas as orações não estão iniciadas com vírgula, há duas orações adjetivas restritivas. E ambas são complementos verbais. Para entender a função da palavra que, é preciso verificar como o período foi construído. 1: Eis os especialistas.

Qualquer editora contrataria especialistas. (especialistas é complemento verbal de contrataria). 2: Tínhamos achado preciosidades. Muitos colecionadores cobiçariam preciosidades. (preciosidades é complemento verbal de cobiçaram).

Permanece inquietante a (questão de formar a criança e o jovem para valores que ainda constituem o ideal do nosso tão sofrido bípode implume. O malogro da educação liberal-capitalista nos aflige como, em outro contexto, nos teria afligido um projeto de educação totalitária. Esta impõe, mediante a violência do Estado, a passividade inerme do cidadão, ao qual só resta obedecer aos ditames do partido dominante. Conhecemos o que foi a barbárie nazifascista, a barbárie stalinista, a barbárie maoísta. De outra natureza é a barbárie que vivemos no aqui-e- agora do consumismo irresponsável, dos lobbies farmacêuticos, do desrespeito ao ambiente, das violações dos direitos humanos fundamentais, da imprensa facciosa e venal, dos partidos de aluguel, da intolerância ideológica dos grupelhos, da arrogância dos formadores de opinião espalhados pela mídia e pelas universidades.

Um plano oficial de educação pouco poderia fazer para alterar esse iminente risco de desintegração que afeta a sociedade civil, atingindo classes e estamentos diversos; mas que ao menos se faça esse pouco!

Alfredo Bosi. A valorização dos docentes é a única forma de construir uma escola eficiente. Chega de proletários do giz. In: Carta Capital. Ano XIX, n.º 781, p. 29 (com adaptações).

04. (2014 - CADE - Agente Administrativo) A preposição “para”, tanto em “para valores que ainda constituem o ideal do nosso tão sofrido bípode implume” quanto em “para alterar esse iminente risco de desintegração que afeta a sociedade civil”, introduz orações que exprimem finalidade.



GABARITO: ERRADO.

No período “Permanece inquietante a (questão de formar a criança e o jovem para valores que ainda constituem o ideal do nosso tão sofrido bípode implume)”, a preposição para estabelece uma ideia de finalidade, mas não introduz uma oração. No período “Um plano oficial de educação pouco poderia fazer para alterar esse iminente risco”, a preposição para introduz uma oração que exprime finalidade. Ou seja, o erro da questão é afirmar que em ambos os casos a preposição “para” introduz orações.

05. (2014 - CADE - Agente Administrativo) Sem prejuízo da correção gramatical e do sentido original do texto, a preposição “a”, em “ao qual”, em destaque no texto, poderia ser suprimida.



GABARITO: ERRADO.

A expressão “ao qual” substituiu outro pronome relativo (que). Essa expressão faz referência a “cidadão”, que é uma palavra masculina que está no singular. Logo, a retirada de “a” prejudicaria a correção gramatical.

A expectativa é de que o funcionamento regular dessas estruturas possa gerar subsídios para a melhoria de processos de trabalho nas operadoras, em especial no que diz respeito ao relacionamento com o público e à racionalização do fluxo de demandas encaminhadas à ANS.

Internet: <www.ans.gov.br> (com adaptações).

- 06.** (2013 - ANS - Técnico Administrativo) Mantém-se a correção gramatical do período ao se substituir “em especial” por especialmente.



GABARITO: CERTO.

A expressão “em especial” é um adjunto adverbial. Ao fazer a substituição proposta, o termo “especialmente” exerce a mesma função. Vejamos: “especialmente” no que diz respeito ao relacionamento com o público e à racionalização do fluxo de demandas encaminhadas à ANS.

Há evidências de que a oferta de medicação domiciliar pelas operadoras de planos de saúde traz efeito positivo aos beneficiários: todas as normas da ANS primam pela pesquisa baseada em evidências científicas nacionais e internacionais e buscam a qualidade da saúde oferecida aos beneficiários dos planos de saúde, bem como o equilíbrio do setor.

Internet: <www.ans.gov.br> (com adaptações).

- 07.** (2013 - ANS - Técnico Administrativo) A forma verbal “traz” está no singular porque concorda com o núcleo de seu sujeito: “a oferta”.



GABARITO: ERRADO.

O núcleo do sujeito é o substantivo “oferta”, e não “a oferta”.

A fiscalização do cumprimento das garantias de atendimento é uma forma eficaz de se certificar o beneficiário da assistência por ele contratada, pois leva as operadoras a ampliarem o credenciamento de prestadores e a melhorarem o seu relacionamento com o cliente. Para isso, a participação dos consumidores é de fundamental importância.

Internet: <www.ans.gov.br> (com adaptações).

- 08.** (2013 - ANS - Técnico Administrativo) Mantém-se a correção gramatical do período e suas informações originais ao se substituir o termo “pois” por qualquer um dos seguintes: já que, uma vez que, porquanto.



GABARITO: CERTO.

As expressões “já que, uma vez que, porquanto” têm sentido explicativo. No período “é uma forma eficaz de se certificar o beneficiário da assistência por ele contratada, pois leva as operadoras a ampliarem o credenciamento de prestadores e a melhorarem o seu relacionamento com o cliente”, pois também tem caráter explicativo. Logo, a substituição é possível.

A avaliação das operadoras de planos de saúde em relação às garantias de atendimento, previstas na RN 259, é realizada de acordo com dois critérios: comparativo, cotejando-as entre si, dentro do mesmo segmento e porte; e avaliatório, considerando evolutivamente seus próprios resultados.

Os planos de saúde recebem notas de zero a quatro: zero significa que o serviço atendeu às normas, e quatro é a pior avaliação possível do serviço. Os planos com pior avaliação — durante dois períodos consecutivos — estão sujeitos à suspensão temporária da comercialização. Quando isso ocorre, os clientes que já haviam contratado o serviço continuam no direito de usá-lo, mas a operadora não pode aceitar novos beneficiários nesses planos.

Internet: <www.ans.gov.br>.

09. (2013 - ANS - Analista Administrativo) O segmento “que já haviam contratado o serviço” tem natureza restritiva.



GABARITO: CERTO.

O segmento em comento é iniciado por um pronome relativo, por isso é uma oração adjetiva. Como essa oração não está entre vírgulas, tem natureza restritiva.

10. (2013 - ANS - Analista Administrativo) Prejudica-se a correção gramatical do período ao se substituir “é realizada” por realiza-se.



GABARITO: ERRADO.

No trecho “A avaliação das operadoras de planos de saúde em relação às garantias de atendimento é realizada”, a forma verbal “é realizada” está na voz passiva analítica. Essa forma verbal na voz passiva sintética é: realiza-se.

Do ponto de vista global, notou-se que a quebra da ordem foi provocada em situações diversas e ora tornou mais graves as distorções do direito, ora espalhou a insegurança coletivamente.

Internet: <www1.folha.uol.com.br> (com adaptações).

11. (2014 - DPF - Agente Administrativo) A partícula “se” é empregada para indeterminar o sujeito.



GABARITO: ERRADO.

Em “notou-se que a quebra da ordem...”, o termo “se” é pronome apassivador, visto que a oração está na voz passiva pronominal, sendo o sujeito oracional.

Quando o homem moderno, particularmente o habitante da cidade, deixa a luz natural do dia ou a luz artificial da noite e entra no cinema, opera-se em sua consciência uma mudança psicológica crucial. Do ponto de vista subjetivo, na maioria dos casos, ele vai ao cinema em busca de distração, entretenimento, talvez até instrução, por um bom par de horas.

Pouco lhe importam as condições técnicas e socioeconômicas das indústrias que, em primeira instância, lhe possibilitam assistir aos filmes; na verdade, esse tipo de preocupação nem lhe passa pela cabeça.

Hugo Mauerhofer. A psicologia da experiência cinematográfica. In: Ismail Xavier. A experiência do cinema. RJ: Graal, 1983, p. 375-6 (com adaptações).

12. (2013 - ANCINE - Analista Administrativo) A forma verbal “importam” foi empregada no plural por concordar com “o homem moderno”, expressão de sentido coletivo a que se refere o sujeito da oração em que essa forma verbal ocorre.



GABARITO: ERRADO.

A forma verbal “importam” foi empregada no plural para concordar com o sujeito (as condições técnicas e socioeconômicas das indústrias). O pronome é que lhe faz referência a “o homem moderno”.

Um dos principais aspectos desse ato corriqueiro, que se chama situação cinema, é o isolamento mais completo possível do mundo exterior e de suas fontes de perturbação visual e auditiva. O cinema ideal seria aquele onde não houvesse absolutamente nenhum ponto de luz (tais como letreiros luminosos de emergência e saída etc.) fora da própria tela e onde, fora a trilha sonora do filme, não pudessem penetrar nem mesmo os mínimos ruídos.

Hugo Mauerhofer. A psicologia da experiência cinematográfica. In: Ismail Xavier. A experiência do cinema. RJ: Graal, 1983, p. 375-6 (com adaptações).

- 13.** (2013 - ANCINE - Analista Administrativo) A substituição do vocábulo “onde” por em que manteria a correção gramatical e o sentido original do texto.



GABARITO: CERTO.

A substituição está correta, pois onde pode ser substituído por em que, porque ambos são pronomes relativos.

Caso alguém pergunte, em um futuro distante, qual terá sido o meio de expressão de maior impacto da era moderna, a resposta será quase unânime: o cinematógrafo.

Inventado em 1895 pelos irmãos Lumière para fins científicos, o cinema revelou-se peça fundamental do imaginário coletivo do século XX, seja como fonte de entretenimento, seja como fonte de divulgação cultural de todos os povos do globo.

História do cinema brasileiro. Internet: <<http://dc.itamaraty.gov.br>> (com adaptações).

- 14.** (2013 - ANCINE - Analista Administrativo) A substituição da forma verbal “terá sido” por foi não prejudicaria a correção gramatical nem a coerência do texto.



GABARITO: CERTO.

A substituição de termos não afetaria a correção gramatical nem a coerência, pois ambas as formas verbais estão no passado e fazem referência a um fato ocorrido no passado em relação ao futuro. “Caso alguém pergunte, em um futuro distante, qual terá sido o meio de expressão de maior impacto da era moderna, a resposta será quase unânime: o cinematógrafo.”

Cidadãos de áreas rurais que estejam ligados a atividades culturais e estudantes universitários de todas as regiões do Brasil, por exemplo, são beneficiados por um dos projetos da SID: as Redes Culturais. Essas redes abrangem associações e grupos culturais para divulgar e preservar suas manifestações de cunho artístico. O projeto é guiado por parcerias entre órgãos representativos do Estado brasileiro e as entidades culturais.

Identidade e diversidade. Internet: <www.brasil.gov.br/sobre/cultura/> (com adaptações).

- 15.** (2013 - PC/BA - Escrivão) No período “Essas redes abrangem associações e grupos culturais para divulgar e preservar suas manifestações de cunho artístico”, duas orações expressam finalidades das “Redes Culturais”.



GABARITO: CERTO.

A ocorrência da palavra para mostra que há uma finalidade. E como há dois verbos (divulgar e preservar), entende-se que há duas orações, as quais são reduzidas de infinitivo.

RACIOCÍNIO LÓGICO

1

Ano: 2019

Banca: Quadrix

Órgão: CREF - 20ª Região (SE)

Prova: Quadrix - 2019 - CREF - 20ª Região (SE) - Assistente Administrativo

Texto associado

Em um campeonato de vôlei, cada vitória vale 4 pontos e cada derrota vale o número de pontos correspondente ao de sets vencidos pelo perdedor no jogo. Sabe-se que cada jogo de vôlei é disputado por melhor de 5 sets, ou seja, quem vencer 3 sets primeiro ganha o jogo. Além disso, não há possibilidade de empate. Há 10 equipes que participam do campeonato e cada uma joga contra todas as demais 2 vezes: uma como visitante e outra como mandante.

Com base nesse caso hipotético, julgue o item a seguir.

Caso alguma equipe vença todos os seus jogos no campeonato, então o máximo de pontos que o segundo colocado poderá acumular, ao final do campeonato, será 68.

- Certo
- Errado

2

Ano: 2019

Banca: Quadrix

Órgão: CREF - 20ª Região (SE)

Prova: Quadrix - 2019 - CREF - 20ª Região (SE) - Assistente Administrativo

Texto associado

Em um campeonato de vôlei, cada vitória vale 4 pontos e cada derrota vale o número de pontos correspondente ao de sets vencidos pelo perdedor no jogo. Sabe-se que cada jogo de vôlei é disputado por melhor de 5 sets, ou seja, quem vencer 3 sets primeiro ganha o jogo. Além disso, não há possibilidade de empate. Há 10 equipes que participam do campeonato e cada uma joga contra todas as demais 2 vezes: uma como visitante e outra como mandante.

Com base nesse caso hipotético, julgue o item a seguir.

Se uma equipe possui exatamente 1 ponto após 4 jogos, então, necessariamente, ela perdeu um jogo por 3 sets a 1 e perdeu os demais por 3 sets a 0.

- Certo
- Errado

3**Ano:** 2019**Banca:** Quadrix**Órgão:** CREF - 20ª Região (SE)**Prova:** Quadrix - 2019 - CREF - 20ª Região (SE) - Assistente Administrativo

Texto associado

Em um campeonato de vôlei, cada vitória vale 4 pontos e cada derrota vale o número de pontos correspondente ao de sets vencidos pelo perdedor no jogo. Sabe-se que cada jogo de vôlei é disputado por melhor de 5 sets, ou seja, quem vencer 3 sets primeiro ganha o jogo. Além disso, não há possibilidade de empate. Há 10 equipes que participam do campeonato e cada uma joga contra todas as demais 2 vezes: uma como visitante e outra como mandante.

Com base nesse caso hipotético, julgue o item a seguir.

Se uma equipe possui 4 pontos em 2 jogos, então necessariamente ela ganhou um jogo e perdeu o outro por 3 sets a 0.

- Certo
- Errado

4**Ano:** 2019**Banca:** Quadrix**Órgão:** CREF - 20ª Região (SE)**Prova:** Quadrix - 2019 - CREF - 20ª Região (SE) - Assistente Administrativo

Texto associado

Para montar uma cesta básica, deve-se escolher uma marca de arroz, uma de óleo e uma de açúcar. Há disponíveis 3 marcas de arroz, 4 marcas de óleo e 2 marcas de açúcar; todas com preços diferentes.

Com base nessa situação hipotética, julgue o item a seguir.

Existe uma única escolha que minimiza o preço da soma dos três produtos.

- Certo
- Errado

5

Ano: 2019

Banca: NC-UFPR

Órgão: Prefeitura de Curitiba - PR

Prova: NC-UFPR - 2019 - Prefeitura de Curitiba - PR - Fiscal

Considere as seguintes afirmações:

- Se você não sente algo ao ouvir Bob Marley, então você está morto.
- Se você está morto, então você não pode escolher o que quer ouvir.
- Você pode escolher o que quer ouvir.

A partir dessas afirmações, é correto concluir que você:

- a) não sente nada ao ouvir Bob Marley porque você está morto.
- b) não pode escolher ouvir Bob Marley.
- c) sente algo ao ouvir Bob Marley.
- d) não sente algo ao ouvir Bob Marley e não pode escolher o que quer ouvir.
- e) não está morto porque sente algo ao ouvir Bob Marley.

6


Ano: 2019

Banca: NC-UFPR

Órgão: Prefeitura de Curitiba - PR

Prova: NC-UFPR - 2019 - Prefeitura de Curitiba - PR - Fiscal

Na figura ao lado há 7 pontos marcados em uma das retas e 3 pontos marcados na outra. Quantos triângulos distintos é possível construir com esses 10 pontos?



- a) 21.
- b) 35.
- c) 63.
- d) 84.
- e) 120.

7

Ano: 2019

Banca: NC-UFPR

Órgão: Prefeitura de Curitiba - PR

Prova: NC-UFPR - 2019 - Prefeitura de Curitiba - PR - Fiscal

Considere a seguinte sequência de números naturais:

2, 3, 5, 8, 12, 17, 23, 30, ...

Qual dos números abaixo pertence a essa sequência?

- a) 58.
- b) 66.
- c) 73.
- d) 80.
- e) 88.

8


Ano: 2019

Banca: FADESP

Órgão: DETRAN-PA

Prova: FADESP - 2019 - DETRAN-PA - Agente de Educação de Trânsito

Em uma marina as lanchas são guardadas em uma estrutura de cinco andares, segundo uma arrumação lógica que, a partir do 2º andar, a colocação, ou não, de lanchas nos espaços só depende da arrumação do andar imediatamente inferior. As lanchas dos quatro primeiros andares da estrutura já estão guardadas, conforme o esboço abaixo. Nesse caso, de acordo com o critério estabelecido, o 5º andar comportará



- a) 4 lanchas.
- b) 3 lanchas.
- c) 2 lanchas.
- d) 6 lanchas.
- e) 5 lanchas.

9

Ano: 2019

Banca: FADESP

Órgão: DETRAN-PA

Prova: FADESP - 2019 - DETRAN-PA - Agente de Educação de Trânsito

O bairro do Marco, em Belém, possui quadras bem definidas, como esboçadas abaixo:



Para uma pessoa ir da esquina da avenida Duque de Caxias com a travessa Antônio Baena (indicada por X) até o canto da avenida João Paulo II com a travessa Timbó (indicado por Z), passando pela esquina da avenida Almirante Barroso com a travessa Curuzu (indicada por Y), a quantidade de trajetos de distância mínima, caminhando, conforme o esboço, sempre para baixo ou para a direita, será igual a

- a) 10.
- b) 12.
- c) 15.
- d) 24.
- e) 32.

10

Ano: 2019 **Banca:** ADM&TEC **Órgão:** Prefeitura de Senador Rui Palmeira
- AL

Prova: ADM&TEC - 2019 - Prefeitura de Senador Rui Palmeira - AL - Agente Administrativo

Leia as afirmativas a seguir:

I. Se em uma cesta há 7 limões, 10 morangos e 5 laranjas, então nela estão contidas 27 frutas.

II. Uma despesa de R\$ 1.100 pode ser paga em 20 parcelas iguais de R\$ 25, cada.

Marque a alternativa CORRETA:

- a) As duas afirmativas são verdadeiras.
- b) A afirmativa I é verdadeira, e a II é falsa.
- c) A afirmativa II é verdadeira, e a I é falsa.
- d) As duas afirmativas são falsas.

GABARITO

1 - Certo	2 - Certo	3 - Errado	4 - Certo	5 - C
6 - D	7 - D	8 - A	9 - C	10 - D